




Kwisboek 2023



Editie Drie - 23 Sept. - 17:00 tot 23:00 uur



Teamnaam:

Joker ingezet bij categorie:



Voorwoord

Beste deelnemers aan Berg Kwis't, editie 3 2023,

Voor u ligt alweer het kwisboek van de derde editie van Berg Kwis't.

We zijn bijzonder blij dat we ook dit jaar weer enkele nieuwe teams mogen begroeten.

In totaal nemen 16 teams deel aan deze derde editie en dat betekent dat er ongeveer 250 mensen op dit moment in de weer zijn alle vragen en opdrachten tot een goed einde te brengen. Naast die 250 actieve mensen weten we uit ervaring dat er nog vele mensen op de achtergrond fungeren als hulplijn.

We hebben ook nu weer enorm genoten van het samenstellen van dit kwisboek en zijn benieuwd wie deze editie op zijn naam gaat schrijven.

We wensen jullie allemaal veel kwis- en puzzelplezier en een gezellige avond.

Team Berg Kwis'T

Inhoudsopgave

Algemeen	2
1. Terug naar school	9
2. Een goede buur....	20
3. Kerk noch kloes	29
4. Dierenmanieren	36
5. Gymnastiek voor je brein	44
6. Kleur bekennen	47
7. Van eigen bodem	57
8. Van A naar B	67
9. W.v.t.t.k.	77

Belangrijke aandachtspunten

1. De antwoorden op de vragen dienen te worden ingevuld op de daarvoor bedoelde regels van het gebonden kwisboek.
2. Bij meerkeuzevragen dient het juiste antwoord omcirkeld te worden.
3. Vragen zijn onderverdeeld in 3 waarderingscategorieën van 1 tot 3 sterren. Doe-opdrachten worden apart gewaardeerd.
4. Aan foute, niet of slecht leesbare antwoorden worden geen punten toegekend. Werk netjes, gebruik bij schrijffouten Tipp-ex (o.i.d.). Bij onduidelijkheden zal de beslissing van de organisatie doorslaggevend zijn!
5. De antwoorden op de vragen worden na de prijsuitreiking bekend gemaakt via de website.
6. Alleen teams die hun kwisboek tijdig en op de juiste wijze hebben ingeleverd, doen mee voor de eindoverwinning.
 - Tijdig wil zeggen: Zaterdagavond 23 September 2023 uiterlijk 23.00 uur bij de organisatie in Cafe Zaal Bergerac, Schaapsweg 24, St. Odiliënberg.
 - Juiste wijze: het gebonden kwisboek dient ingevuld ingeleverd te worden.
7. De teamleider dient gedurende de hele avond goed zijn/haar **whatsapp** in de gaten te houden. Er komen nog extra opdrachten binnen. Deze opdrachten beginnen mogelijk op een aangegeven tijd. Ben je te laat, dan kun je afhankelijk van de opdracht niet meer meedoen of krijg je minder tijd om de opdracht uit te voeren.
8. Wanneer je voor opdrachten naar een andere locatie gaat, te voet, per fiets of auto, hou je dan aan de geldende verkeersregels. De organisatie kan niet aansprakelijk worden gesteld voor eventuele schade!
9. Bij alle correspondentie de teamnaam en het opdrachtnummer vermelden.
10. Zet op het voorblad een kruisje in de linkerbovenhoek voor een bonuspunt.
11. Op de kwisavond is de organisatie aanwezig in Cafe Zaal Bergerac. De organisatie zal deze avond NIET inhoudelijk reageren.
12. Op vrijdag 6 oktober zijn de teams vanaf 20.00 uur van harte welkom bij Cafe Zaal Bergerac voor de prijsuitreiking.

13. Tijdens de carnaval van 2023 (of via de extra opdracht) hebben sommige teams een joker verdiend. De verdiende joker kan ingezet worden om in 1 categorie de eerste 10 foute antwoorden correct te tellen ongeacht de waarderingscategorie. Praktische, doe- en extra opdrachten zijn uitgezonderd van deze regel. Bij het inleveren van het kwisboek ook de joker inleveren en duidelijk vermelden op de voorpagina bij welke categorie deze wordt ingezet.
14. Over de uitslag wordt niet gecorrespondeerd!

Reglement 2023

1. Algemeen

1. Berg Kwis'T is een spel gericht op het juist beantwoorden van vragen en het vervullen van opdrachten.
2. De organisatie van Berg Kwis'T is in handen van een aantal fanatieke organisatoren.

2. Teams

1. Deelname aan Berg Kwis'T geschiedt in teamverband.
2. Geen maximum is vastgesteld ten aanzien van het aantal teamleden maar er wordt geadviseerd minimaal 8 tot 10 personen.
3. Elk team mag zich maximaal eenmaal inschrijven. Iedere deelnemer kan maar deelnemen in een (1) team.
4. De organisatie correspondeert alleen met de aangemelde teamleider.

3. Inschrijven

1. Een team kan deelnemen aan Berg Kwis'T door zich in te schrijven.
2. Een team kan zich in beginsel alleen inschrijven door het officiële inschrijfformulier volledig in te vullen. Dit is te downloaden via www.bergkwist.nl.

4. Gevolgen van inschrijving

1. Inschrijving geeft recht op ontvangst van een vragenboek, deelname aan Berg Kwis'T en (daarmee) kans op een eindklassering.
2. Tegenover het recht op deelname staat de plicht om € 40,- over te dragen aan Berg Kwis'T. De overdracht van het geldbedrag geschiedt contant bij inschrijving. (zie inschrijfformulier)

5. De avond van Berg Kwis'T: ophalen en inleveren van het vragenboek

1. Op 23 september 2023 krijgt het team om 17:00 uur in Café Zaal Bergerac – uitsluitend na inlevering van het deelnameformulier – een vragenboek uitgereikt.
2. Het ingevulde (ingebonden) vragenboek moet uiterlijk om 23:00 uur dezelfde avond zijn ingeleverd.
3. De digitale klok is leidend in dit verband.

6. Punten

1. Per vraag kunnen punten gescoord worden, deze variëren conform de aangegeven waarderingscategorie (1, 2 of 3 sterren).
2. Aan een niet of slecht leesbaar antwoord worden geen punten toegekend.
3. Vragen met het rechts hiernaast vermelde logo worden gecontroleerd op spelling. Bij verkeerde spelling is het hele antwoord fout.



7. Categorieën

1. Berg Kwis'T bevat een negental categorieën.

8. Jokers

1. Verdiende jokers kunnen ingezet worden om in 1 categorie de eerste 10 foute antwoorden correct te tellen ongeacht de aangegeven waarderingscategorie. Praktische, doe- en extra opdrachten zijn uitgezonderd van deze regel.
2. Bij het inleveren van de joker dient op de voorpagina vermeld te worden in welke categorie deze is ingezet.

9. Eindklassement

1. De eindklassering van Berg Kwis'T wordt bepaald aan de hand van het aantal behaalde punten. Het team met de meeste punten wint Berg Kwis'T.
2. Bij een gelijk aantal punten zal de organisatie de plaatsen verdelen op volgorde van inlevering van het Berg Kwis'T vragenboek. De organisatie vermeldt direct bij inlevering het exacte tijdstip van inlevering op het ingeleverde vragenboek. Dit is definitief en bindend.

10. Prijzen

1. Er zijn prijzen voor de drie hoogstgeklasseerde teams.

11. Prijsuitreiking

1. De uitslag van Berg Kwis'T wordt bekendgemaakt op vrijdag 6 oktober.
2. De uitslag van Berg Kwis'T is bindend. Over de uitslag kan op generlei wijze worden gediscussieerd of gecorrespondeerd.

12. Onvoorziene omstandigheden

1. Bij onvoorziene omstandigheden (in ieder geval zijnde omstandigheden waarin dit reglement niet voorziet) neemt de organisatie een bindende beslissing.

13. Aansprakelijkheid

1. De organisatie kan niet aansprakelijk worden gesteld voor de schade geleden als gevolg van deelname aan Berg Kwis'T.

14. AVG (Algemene Verordening Gegevensbescherming)

1. Er kunnen tijdens de uitvoering van de kwis foto's gemaakt worden door de organisatie. Door mee te doen geef je toestemming dat deze foto's gebruikt mogen worden voor publicatie.
2. Door het beschikbaar stellen van beeld- en geluidsopnames aan de organisatie geeft men toestemming om deze openbaar te mogen publiceren.

Sponsors

Berg Kwis'T zou niet mogelijk zijn zonder de bijdrage die onze sponsors leveren. Hierbij dank aan iedereen die zijn of haar steentje bijdraagt aan het mogelijk maken van Berg Kwis'T.



Opdracht 1: Leesplankjes ☆

Hieronder staan een aantal “lokale” leesplankjes. Uit welk dorp of stad komen deze?

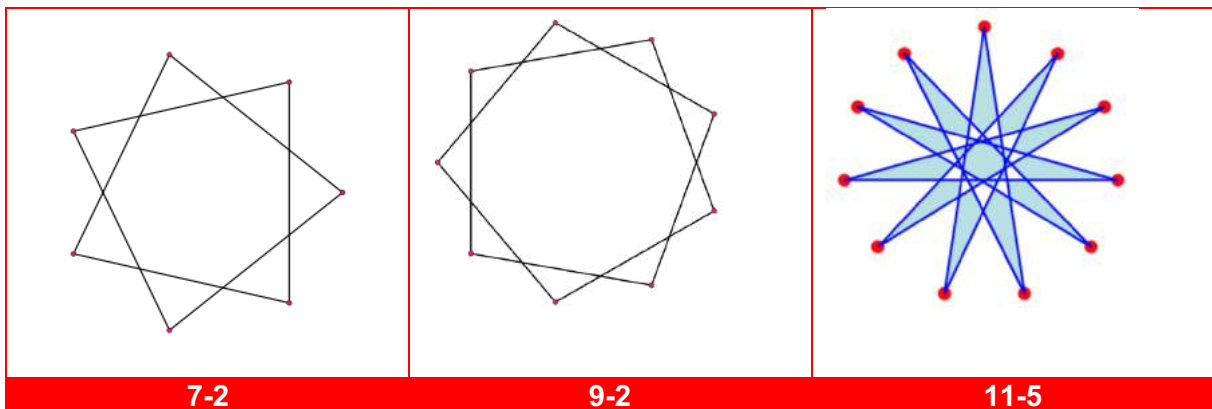
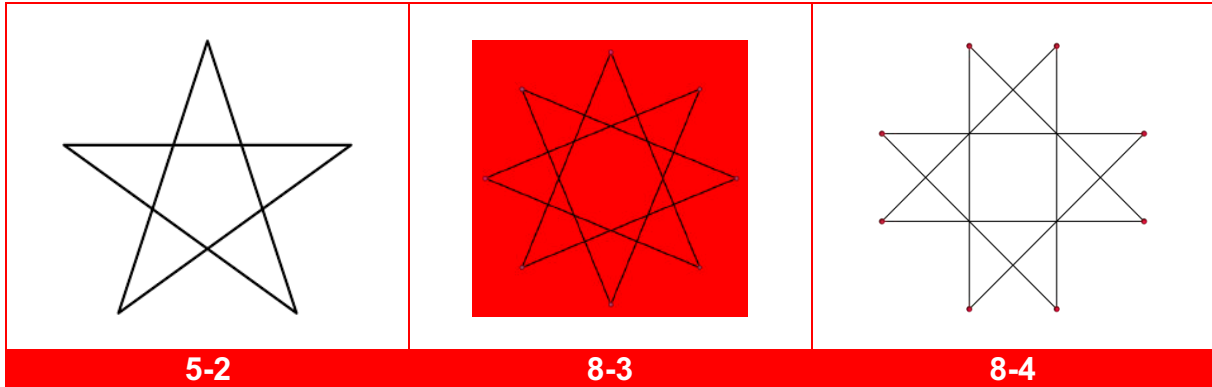


1. Valkenburg
2. Beek
3. Melick
4. Maastricht

5. Roermond
6. Sittard
7. Stramproy


Opdracht 2: Sterrenkunde ☆☆ 20p

Hieronder zie je 3 sterren met daaronder een wiskundige beschrijving. Teken vervolgens zelf de juiste ster bij de gegeven beschrijvingen in de onderste tabel.



Opdracht 3: Lezen van de lijst ☆☆

Welke boektitels staan hier in rebusvorm vermeld? Noteer tevens de auteur.



Titel: In de ban van de ring
Auteur: JRR Tolkien



Titel: Harry Potter en de steen der wijzen
Auteur: JK Rowling

3. -ur sc+ +uw b=h m=v +e

Titel: De schaduw van de wind

Auteur: Carlos Ruiz Zafon

4. -ur +dek+ G -t e=0 m=v p=d -n he+ -k

Titel: De ontdekking van de hemel

Auteur: Harry Mulisch

5. -ur d+ +e a=0 h=k m=v -s + mo+ f=c

Titel: De donkere kamer van Damocles

Auteur: WF Hermans

6. + f=z -e n+ o=e + e=v +ig n=t

Titel: 1984

Auteur: George Orwell

7. -ur + -b i=v p=r -p m=v +ha + g=a -a w=m

Titel: De verloren eer van Katharina Blum

Auteur: Heinrich Boll

8. -ur -s +i +de -ta

Titel: De Da Vinci Code

Auteur: Dan Brown

Opdracht 4: Moderne vreemde talen ☆

Vertaal onderstaande woorden in de aangegeven talen.

					
1	Fiets	Fahrrad	Vélo / bicyclette	bicicleta	cykel
2	Nietmachine	Hefter	agrafeuse	(en)grapadora	häftapparat
3	Bureau	Schreibtisch	bureau	escritorio	skrivbord
4	Betaalcheque	Zahlungsscheck	Chèque de paiement	Cheque de pago	betalningskontroll
5	Telefoon	Telefon	téléphone	teléfono	telefon
6	Licht	Licht	lumière	luz	ljus
7	Papier	Papier	papier	papel	papper
8	Voorzitter	Vorsitzender	président	presidente	ordförande
9	Kladblok	Notizblock	bloc-notes	bloc de notas	anteckningsblock
10	Boek	Buch	livre	libro	Bok
11	Stoelen	Sitzplätze	chaises	sillas	platser
12	Koffiekopje	Kaffeetasse	tasse à café	Taza de cafe	kaffekopp
13	Thermoskan	Thermoskanne	thermos	termo	termos
14	Lijm	Kleber	colle	pegamento	lim
15	Chocolade	Schokolade	chocolat	chocolate	choklad
16	Werk	Arbeit	travailler	trabajo	arbete
17	Verveling	Langeweile	ennui	aburrimiento	tristess
18	Golf	Welle	vague	ola	vag
19	Zandkasteel	Sandburg	château de sable	Castillo de arena	sandslott
20	Maandag	Montag	lundi	lunes	mandag
21	Vanille	Vanille	vanille	vainilla	vanilj
22	Bamboe	Bambus	bambou	bambú	bambu
23	Niezen	Niesen	éternuement	estornudo	nysningar
24	Kras	Kratzer	gratter	rascar	repa
25	Selderij	Sellerie	célerie	apio	selleri

Opdracht 5: CKV ☆



1. Wie heeft dit gemaakt?
Fredrik Raddum



2. Waar staat dit beeld?
Tintagel, Cornwall



3. In welke stad kun je dit beeld vinden?
Philadelphia



4. Waar gaat dit beeld zwemmen?
Antibes, Frankrijk



5. In welke stad word je door dit beeld gegrepen?
Venetie



6. Waar zweven deze dames?
Apeldoorn



7. Wie maakte deze steen, papier,
schaar?
Kevin Box



8. Hoe heten deze twee figuren?
Ali en Nino



9. Waar ligt deze lepel?
Minneapolis

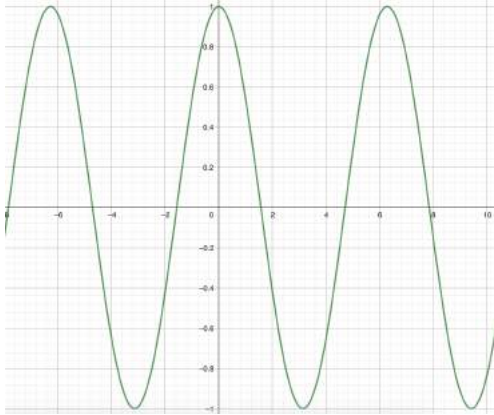


10. Wie ontwierp deze man?
Bruno Catalani

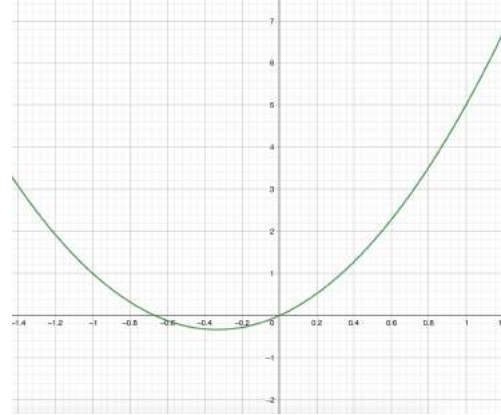
Opdracht 6: Wiskunde B ☆☆

Koppel de juiste vergelijking aan de juiste grafiek. Noteer de letter onder de grafiek.

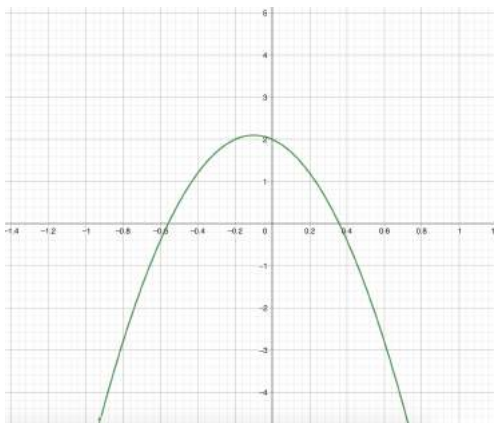
A	$f(x) = \sin(x)$	D	$f(x) = 3x^2 + 2x$
B	$f(x) = \sin(2x)$	E	$f(x) = -10x^2 - 2x + 2$
C	$f(x) = \cos(x)$	F	$f(x) = -10x^3 - 2x + 2$



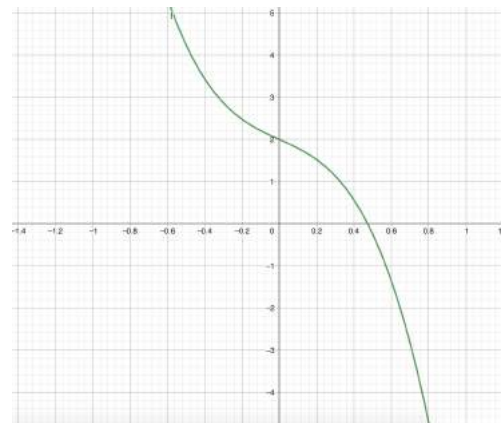
C



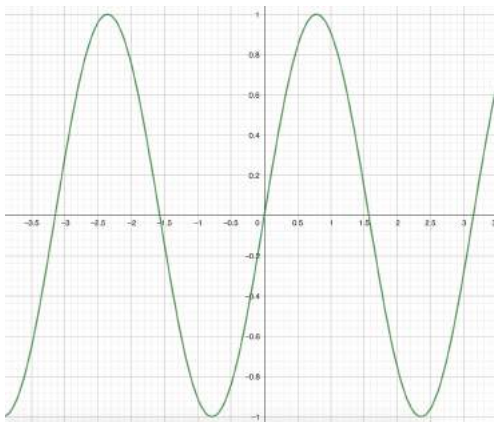
D



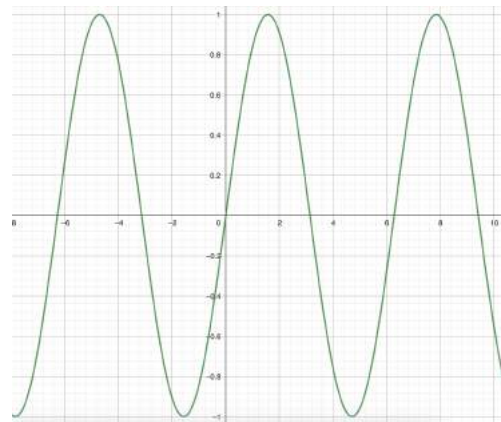
E



F



B



A

Opdracht 7: Kinderliedjes ☆

Welke kinderliedjes staan hieronder afgebeeld?

	Liedje
	Schpper mag ik over varen
	Witte zwanen, zwarte zwanen
	Ik zag twee beren broodjes smeren
	Ale eendjes zwemmen in het water
	Boer wat zeg je van mijn kippen
	Drie kleine kleutertjes zaten op een hek
	Er zat een aapje op een stokje
	Hop hop hop, paardje in galop

Opdracht 8: Slimste mens ☆☆

We zoeken per tabel drie verbanden: 4 woorden horen bij elkaar.

Holte	Genoot	Vliesontsteking
X en Y	Bier	Riem
1960-1992	Patat	VARA
Kloof	Joop Daalmeijer	Actualiteitenrubriek

Buik, Generatie en Achter het Nieuws

6,00%	Water	Vermelding
Code	Draai	Achterwerk
Oorsprong	By the way	Tegen de krib
Mopper	Omzetbelasting	21,00%

Kont, bron en BTW

Rolstoel	Frisdrank	Inslag
Plastic	Recyclebaar	Hartelijk
Klant	Onweer	Statiegeld
Ontlading	Milieu	Schicht

Petfles, vriendelijk en bliksem

Meetwerk	Uitvinder	Rus
Hond	Paardenkracht	Wiskunde
Liniaal	Reflex	Schot
Kwijlen	Gradenboog	Stoomkracht

Pavlov, Watt en godriehoek

Niet retour	Ordeloze bende	Carthago
Olifanten	Meute	Gewricht
Hindernis	Alleen	Silence of the Lambs
Clarice Starling	Lopen	Spel

Horde, enkel en Hannibal

Maan	Sesam	Metten is weten
Sperma	Een goed	Gissen is
Start	Aanvang	Donor
Is 't halve werk	Als kiespijn	De boot

Begin, zaad en missen

Droog	Stick	Volks
In vuur en vlam	Roken schaadt de	Voor paal
Tand door je	Santé, op je.....	Koorts
Blaken van	Schaam	De lamp

Lip, gezondheid en staan

Saus	Bagage	In je vuistje
Klein	Gieren, brullen	Babi of ajam
Laat me niet	Afdruip	Stokje
Elasticiteit	Schateren	kroket

Rek, sate en lachen

Crawl	Bocht	Complot
Van Rodin	Boot	Zingen uit volle
Filosoof	Beeld	Doen
Bahn	Vergroting	Beleefde aanspreekvorm

Denker, U en borst

Boris	Kap	Misdadiger
Grachten	Rubberen regen	Nederlandse rapper
Uien	Bede	Ondeugd
School	Hoog schoeisel	hoofdstedelijk

Laars, boef en Amsterdamse

Tijd	Buiten	Astrid Joosten
Marc	Doek	opzoeken
kunst	Joods	Opiniepeiler
Quiz	Ipad-school	kwast

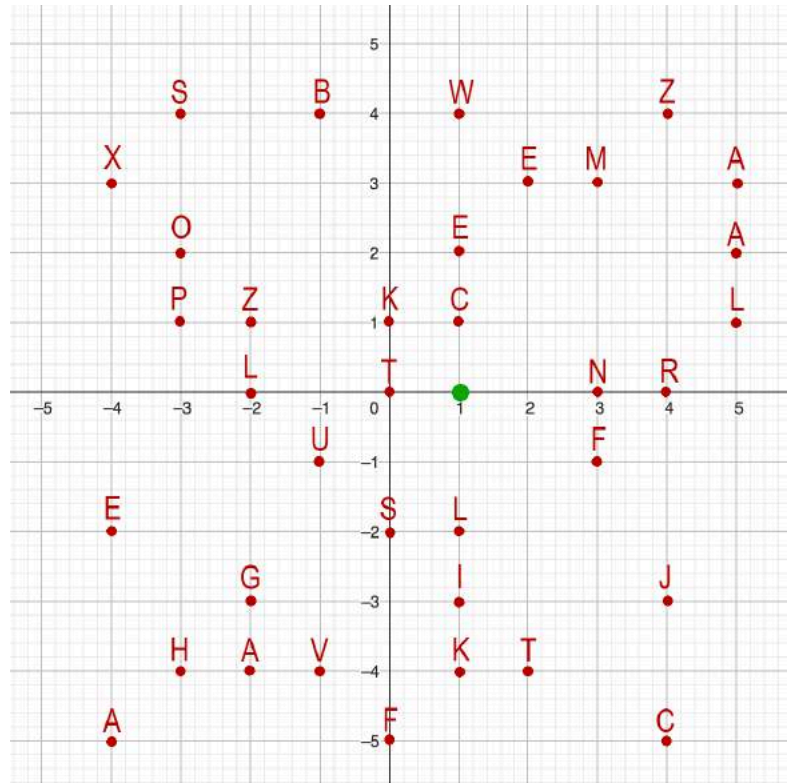
Schilder, Twee voor twaalf en Maurice de Hond

Piper heidsieck	Bonneville	Lichtbron
Moët et Chandon	Salinas Grande	Was
Laurent Perrier	Dom Perignon	Vlam
Lont	Salad de Uyuni	Makgadikgadi

Champagne, Kaars en zoutvlakte

Opdracht 9: Wiskunde D ★★★

Een locatie in Sint Odiliënberg wordt aangewezen door een aantal vectoren. Het aangrijpingspunt is voor alle vectoren hetzelfde en is met groen gemarkeerd.



$$\vec{a} = \begin{pmatrix} -2 \\ 4 \end{pmatrix}$$

$$\vec{b} = \vec{a} - \begin{pmatrix} 2 \\ 0 \end{pmatrix}$$

$$\vec{c} = \begin{pmatrix} 1 \\ -4 \end{pmatrix}$$

$$\vec{d} = -i + j$$

$$\vec{e} = -\begin{pmatrix} 5 \\ 2 \end{pmatrix}$$

$$\vec{f} = \begin{pmatrix} -1 \\ 0 \end{pmatrix} + \begin{pmatrix} 3 \\ 3 \end{pmatrix}$$

$$\vec{g} = -4i + j$$

$$\vec{h} = 4 \begin{pmatrix} 0 \\ -1 \end{pmatrix}$$

$$\vec{i} = \vec{d} + \begin{pmatrix} 1 \\ 1 \end{pmatrix}$$

Locatie:

BS 't Kempke

Opdracht 10: Basisvorming

Om 19:00 uur start voor een teamlid bij de basisschool een activiteit. Zorg dat dit teamlid een goede basisvorming heeft en een pen, potlood en geodriehoek bij zich heeft.



Opdracht 11: Nieuwe buren ☆☆☆

In een nieuwe wijk in Berg staan vijf huizen op een rij. De huizen hebben allemaal een eigen kleur. Vanuit vijf verschillende plaatsen verhuizen bewoners naar deze huizen.

De vijf bewoners drinken het liefst allemaal iets verschillend, hebben hun eigen favoriete gerecht en supporteren elk een andere voetbalclub. Vul met behulp van onderstaande hints het schema volledig juist in.

- De nieuwe eigenaar van het groene huis drinkt graag een limoncello.
- De bewoner die graag Nasi eet is fan van Roda.
- De bewoner uit Melick komt naast het gele huis te wonen.
- De vrouw uit Posterholt heeft een buurman die graag wijn drinkt
- De persoon die graag "gewoon" aardappelen, vlees en groente eet drinkt hierbij het liefste ook gewoon water.
- De man uit 't Reutje eet vaak salades.
- De nieuwe eigenaar van het blauwe huis kun je het blijst maken met een frietje.
- De bewoner die graag pasta eet woont naast de Fortuna supporter.
- De man afkomstig uit Herkenbosch komt te wonen in een rode woning.
- De bewoner die fan is van Ajax komt uit Paarlo en ziet bij de buren een VVV vlag hangen.
- De vrouw afkomstig uit Posterholt drinkt het liefste een biertje.
- De nieuwe bewoner van het middelste huis drinkt 's avonds graag een whiskey
- In het eerste huis komt iemand uit Melick te wonen.
- Het witte huis staat rechts van het groene huis.
- De PSV fan heeft een buur die het liefste friet eet.

Huis	1	2	3	4	5
Plaats	Melick	Posterholt	Herkenbosch	't Reutje	Paarlo
Kleur	Blauw	Geel	Rood	groen	wit
Drank	Wijn	Bier	Whiskey	Limoncello	Water
Gerecht	Friet	Pasta	Nasi	Salade	AGV
Club	Fortuna	PSV	Roda	VVV	Ajax

Opdracht 12: In de Vlaamsche pot ☆

Hoe goed ken je onze Vlaamse burenen?

1. Je kunt er niet meer lang gebruik van maken, maar als je Vlaanderen in wil vanuit Nederland passeer je vaak de Pater Sangersbrug. Tussen welke 2 plaatsen ligt deze brug?

Roosteren en Maaseik

2. Van wie is de uitspraak “Dat is nu toevallig een van mijn specialiteiten.”?

Octaaf de bolle

3. Je gaat naar het frietkot en bestelt een Bouletteke met Andalouse. Wat krijg je dan?

Soort van gehaktbal met rode (mayo)saus

4. Naar wat zijn ze in Gent op zoek sinds 1934?

De rechtvaardige rechters

5. Vlaanderen is bekend van hun groot aantal wielerveders. Hieronder is een lijst van de bekendste hindernissen (anno 2023) gegeven. Geef de naam van de koers.

- Oude Kwaremont – Paterberg
- Kemmelberg
- Muur van Geraardsbergen
- Karnemelkbeekstraat
- Bruine put
- Nokereberg (Finish)

Ronde van Vlaanderen

Gent Wevelgem

Omloop het nieuwsblad

E3 prijs

Brabantse Pijl

Nokere koerse

6. Met welk dier is de stad Ieper verbonden. ?

Katten

7. Wat is een Chasse Patate?

Tussen de kopgroep en peleton

8. Wat drinkt men bij de Sint-Sixtusabdij?

Westvleteren trappist

9. Welke Vlaamse stad is hiernaast aangegeven?

Genk / Hasselt

10. Noteer de eerste zin van John McRae’s beroemdste gedicht.

In Flanders fields the poppies grow



Opdracht 13: Eten over de grens ☆☆

In Duitsland (Heinsberg) vlak over de grens kun je lekker eten. Uit welke restaurants komen deze menukaarten?

1. Il Genio

2. Janses Mattes

3. Das kleine Steakhouse

4. Männer Metzger

5. Picasso

6. Ratskeller

7. Restaurant Croatia

8. Altes Brauhaus

Opdracht 14: Noord-brabant ☆☆

Vul onderstaande stadsnamen in. Op elk streepje komt 1 letter. De letters in de gekleurde blokjes vormen uiteindelijk de naam van een lekkernij.

1. Hoofdstad van Curaçao, maar ook plaats in Noord-Brabant.
Willemstad
2. Klein stukje van de Maas, zonder dammen en kanalisering.
Oude maasje
3. Vesting, garnizoensstad en opleidingsstad voor Koninklijke Militairen.
Breda
4. Plaats bij een vroegere dijkdoorbraak. De naam heeft niets te maken met de gelijknamige rivier.
Waalwijk
5. De naam betekent Gelders dorp. Dries van Agt is hier geboren.
Geldrop
6. Jaarlijks criterium in de week na de finish van de Tour de France.
Chaam
7. Deze plaats maakt een bezoek aan Rome overbodig.
Oudenbosch
8. Riviertje verbonden met kolengestookte centrale bij Geertruidenberg.
Amer
9. Er is een museum gevestigd in een oude textielfabriek en een uitgeverij met de naam van een bekende bisschop.
Tilburg
10. Plaats met eigen namen in het Latijn, Frans, Italiaans, Spaans en Duits. Wat is de oudste variant?
Den Bosch
11. Bekend als de parel van de meierij, bij het riviertje Aa.
Veghel

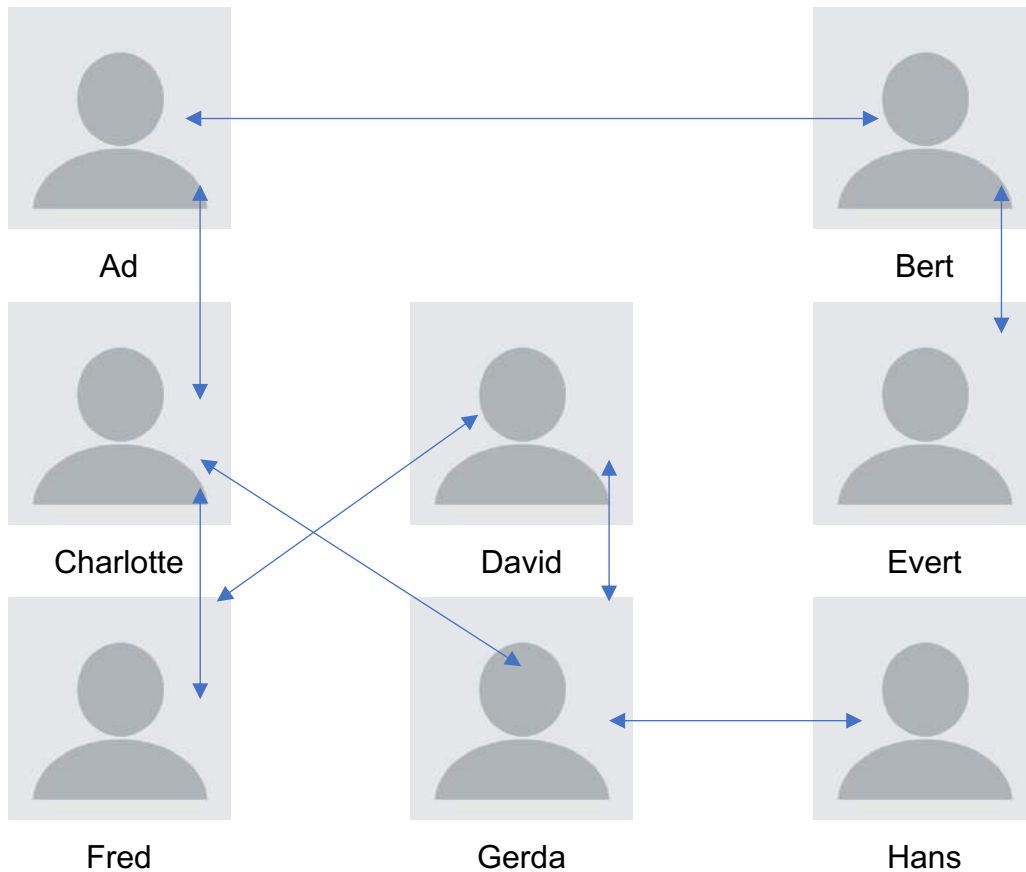
Welke lekkernij is hieruit op te maken?

Sjekladebol

Opdracht 15: Social Network ☆☆

7 Quizzers zitten op een online social network. Ze kunnen berichten plaatsen op hun eigen tijdlijn en op die van directe contacten. Ook kunnen ze berichten zien op de tijdlijn van directe contacten.

Hieronder is weergegeven wie bevriend is met wie.



Na afloop van de quiz plaatsen ze een bericht hierover op de tijdlijn van elk van hun contacten. Al deze berichten worden door iedereen gelezen.

Wiens bericht zal het vaakst gelezen zijn en hoeveel mensen hebben dit bericht gezien? **Charlotte 6.**

Om de Quizzer te vinden wiens bericht door de meeste quizzers gezien wordt, moet je de quizzers tellen die maximaal twee stappen van hen verwijderd zijn. De quizzer die één stap verwijderd zijn, zijn degene op wiens pagina de berichten worden geplaatst en de quizzers die twee stappen verwijderd zijn, zijn degene die deze pagina's kunnen zien. Elke quizzer kan natuurlijk maar één keer geteld worden.

Opdracht 16: Spreken Sie Deutsch? ☆

Wij denken vaak dat de Duitse taal niet al te moeilijk is maar maken vaak leuke fouten. Hoe luidt de goede zin?

Zin	Foute vertaling	Goede vertaling
Ik durf het niet aan.	Ich darf es nicht an.	Ich traue mich nicht.
Niet zo hard van stapel lopen.	Nicht zu hart vom Stapel laufen.	Nichts überstürzen.
Hij is een held op sokken.	Er ist ein Held auf Socken.	Er ist ein Pantoffelheld.
Een borrel daar ben ik echt aan toe!	Ein Borrel, da bin ich echt an zu!	Jetzt bin ich wirklich reif für einen Schnaps.
Geen probleem, dat varkentje wassen wij wel even.	Kein Problem das Schweinchen waschen wir wohl eben.	Kein Problem, das lösen wir im Handumdrehen.
Hij zit goed in zijn vel.	Er sitzt gut in seinem Fell.	Er fühlt sich wohl in seiner Haut.
Dat is niet slim.	Das ist nicht schlimm.	Das ist nicht schlau.
Jij mag hier niet zijn.	Du magst hier nicht sein.	Du darfst hier nicht sein
Mijn enkel doet pijn.	Mein enkel tut weh.	Mein Fussknöchel tut weh.
We rijden naar huis.	Wir reiten nach Hause.	Wir fahren nach hause.
Je kunt me altijd bellen.	Du kannst mich immer bellen.	Du kannst mich immer anrufen.

Opdracht 17: Krantenknipsels ☆

Vul de ontbrekende woorden in de krantenknipsels in. **Revi / Fiat / 2 / Confidence Twende / Flexwoningen**

MIJLPAAL

Burgemeester Onno Hoes verwelkomt de 60.000ste inwoner van Roermond _____,

ROERMOND

Roermond passeerde in december de grens van 60.000 inwoners. Burgemeester Onno Hoes ging langs bij de inwoner die voor die mijlpaal zorgde. Hoes moest daar voor naar de wijk 't Veld. Daar was _____ geboren. De jongeman zorgde er persoonlijk voor dat de gemeente Roermond voor het eerst in de historie de grens van 60.000 inwoners passeerde.

Vuurwerk in Montfort laat huizen op de Markt trillen en legt auto in de as: 'Zonder _____ ben ik mijn vrijheid kwijt'

Foto van de auto van Jeroen (90+) en stromingsdiagram uit (1994) vuurwerkboten op de markt (rechts) de Invasieclub. Een verhaal aan de Maandag van de Markt is menig bewoner wel even klaar met de Invasieclub. Een verhaal aan de Maandag van de Markt is menig bewoner wel even klaar met de Invasieclub.

College Roerdalen wil buitenbaden in Vlodrop en Montfort nog eens _____ jaar steunen

Het zwembad van Montfort bij de heren in 2021. — © foto: René Pijpers

_____ stopt met het plannen voor de vestiging van een beschermd wonenproject in Den Zwart Berg tussen Sint Odiliënberg en Posterholt.

Den Zwart Berg

STANDPLAATSEN

Woonwagengedwongen boos om komst _____ bij kamp

HERKENBOSCH
DOOR ANGELA JANSSENS

Bewoners van het woonwagengedwongen aan de _____

Opdracht 18: Zoals het klokje..... ☆☆

Welke klok/wijzerplaat hoort bij welke kerk in de buurt? Noem in je antwoord bij elke foto de plaatsnaam en de patroonheilige(n) van de betreffende parochie.



Montfort
Sint Catharina



Sint Odilienberg
Otgerus, Plechhelmus,
Wiro



Posterholt
Matthias



Vlodrop
Martinus



Herkenbosch
Sebastianus



Melick
Andreas

Opdracht 19: Monopoly oet Roerdalen ☆☆

Roerdalen beschikt over een eigen Monopolyspel waarin diverse straten uit de dorpskernen zijn opgenomen.

1. Het spel heeft 8 zilverkleurige speelstukken/pionnen. Wat stellen zij voor?

- I. Auto
- II. Kat
- III. Hond
- IV. Boot

- V. Schoen
- VI. Kruiwagen
- VII. Hoge hoed
- VIII. Vingerhoed

2. Welke kleur hebben de straten: Kerkplein, Molenweg en Odiliastraat?
Geel
3. Wat kost het bouwen van een huis op de Beukenlaan per stuk?
150 M
4. Wanneer op de Bergerweg een hotel staat, wat kost het dan als je er met je pion belandt?
450 M
5. Wanneer ik 2 supermarkten bezit, hoeveel huur krijg ik dan?
10 x het aantal ogen van de worp
6. Wat kosten de kaartjes voor Rock am Roer bij Algemeen Fonds?
50 M
7. Hoeveel is de geluksbon van de gemeente Roerdalen waard bij Algemeen Fonds?
200 M

Opdracht 20: Monopoly in Roerdalen

Roerdalen beschikt over een eigen Monopolyspel waarin diverse straten uit de dorpskernen zijn opgenomen. 1 van jullie gaat de omgeving in om de echte straten te bezoeken en een aantal foto's te maken. Let op: op elke foto moet steeds dezelfde persoon te zien zijn.



- Jij bent aan de beurt om te starten en gooit met twee dobbelstenen het getal 11. Maak een selfie bij het straatnaambordje van de straat waar je op terecht bent gekomen.
- Bij jouw volgende beurt gooi je 2. Maak een foto van het teamlid terwijl hij/zij huisnummer 12 aanwijst.
- In de derde beurt gooi je 10. Maak een foto van nummer 36 met het teamlid op de vierde traptree en stuur alle 3 de foto's naar de organisatie.

Opdracht 21: Verzen ☆

Zet onderstaande Bijbelverzen op volgorde van voorkomen in de Bijbel. Vermeld vervolgens ook het Bijbelboek en versnummer

	Boek	Versnummer	Volgorde
Na de dood van Mozes, de dienaar van de HEER, zei de HEER tegen Jozua, de zoon van Nun en de rechterhand van Mozes:	Jozua	1.1	3
'Ruben, hij moge leven, en niet sterven, hoe gering zijn aantal ook is.'	Deuteronomium	33.6	2
Het vijfde lot wees grondgebied toe aan de families van de stam Aser.	Jozua	19.24	4
In het begin schiep God de hemel en de aarde.	Genesis	1.1	1
De mens is voor het ongeluk geboren – zoals vonken uit het vuur omhoogspatten.	Job	5.7	5

Opdracht 22: Legpuzzel ☆☆

Los de puzzel op en beantwoord de vraag. Je ontvangt deze via de app.

Vul je antwoord hieronder in:

Hoeveel zusters wonen er in het Klooster Priorij Thabor?

Wat zijn hun namen?

7

Pauline, Helene, Talitha, Veronica, Josefien, Jacqueline, Petra Victoria

Opdracht 23: Kerkfoto's ☆☆

In of rond welke kerken zijn de volgende polaroids genomen?



- | | |
|-------------------------------|-----------------------|
| 1. St. Laurenskerk, Alkmaar | 4. Buurkerk, Utrecht |
| 2. Dom kerk, Utrecht | 5. St. Jan, Den Bosch |
| 3. St. Walburgiskerk, Zutphen | 6. St. Bavo, Haarlem |

Opdracht 24: Liturgische gezangen ★★★

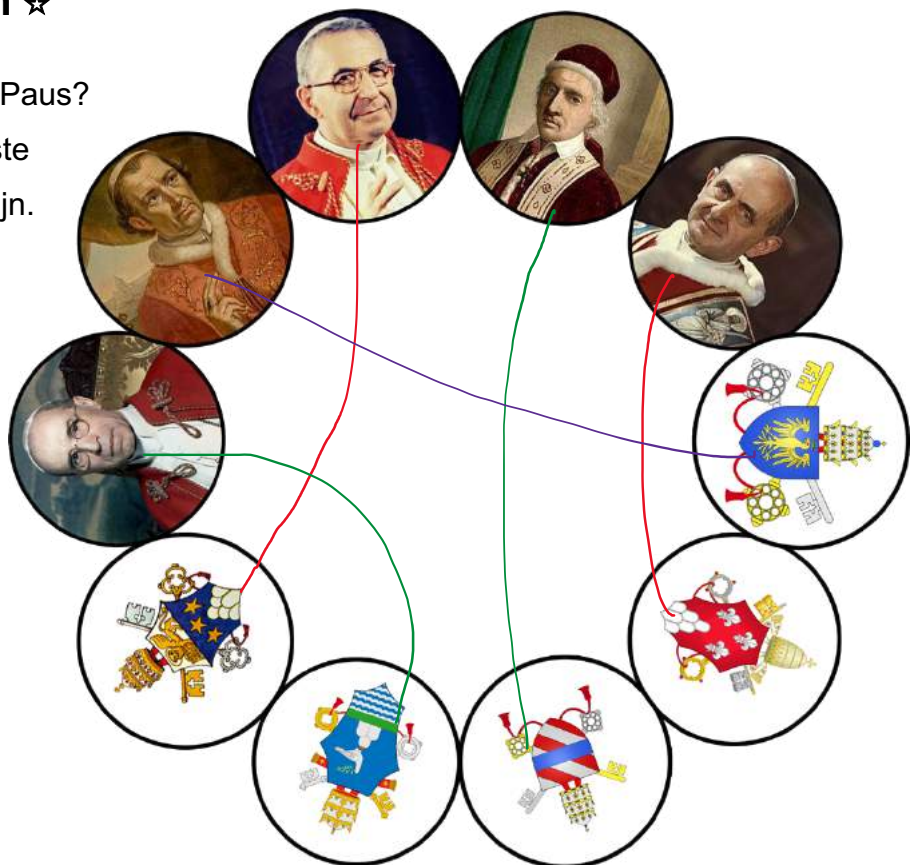
Beluister het fragment dat je doorgestuurd krijgt via Whatsapp.

1. Wat is de titel van het 1e fragment? **Wij groeten U o Koningin**
2. Wat is de titel van het 2e fragment? **Credo**
3. In dit Maria-liedje komt een plaatsnaam voor. Welke? **Lourdes**
4. Het 4e fragment is een gedeelte uit een Requiem. Wie is de componist?
Gabriel Fauré
5. Het 5e fragment is opgedragen aan Maria die als zodanig vereerd wordt in Maastricht. Hoe wordt deze Maria ook wel genoemd? **Sterre der Zee**
6. Van welke bekende componist is dit Ave Maria? **Franz Schubert**

Opdracht 25: Pausen ☆

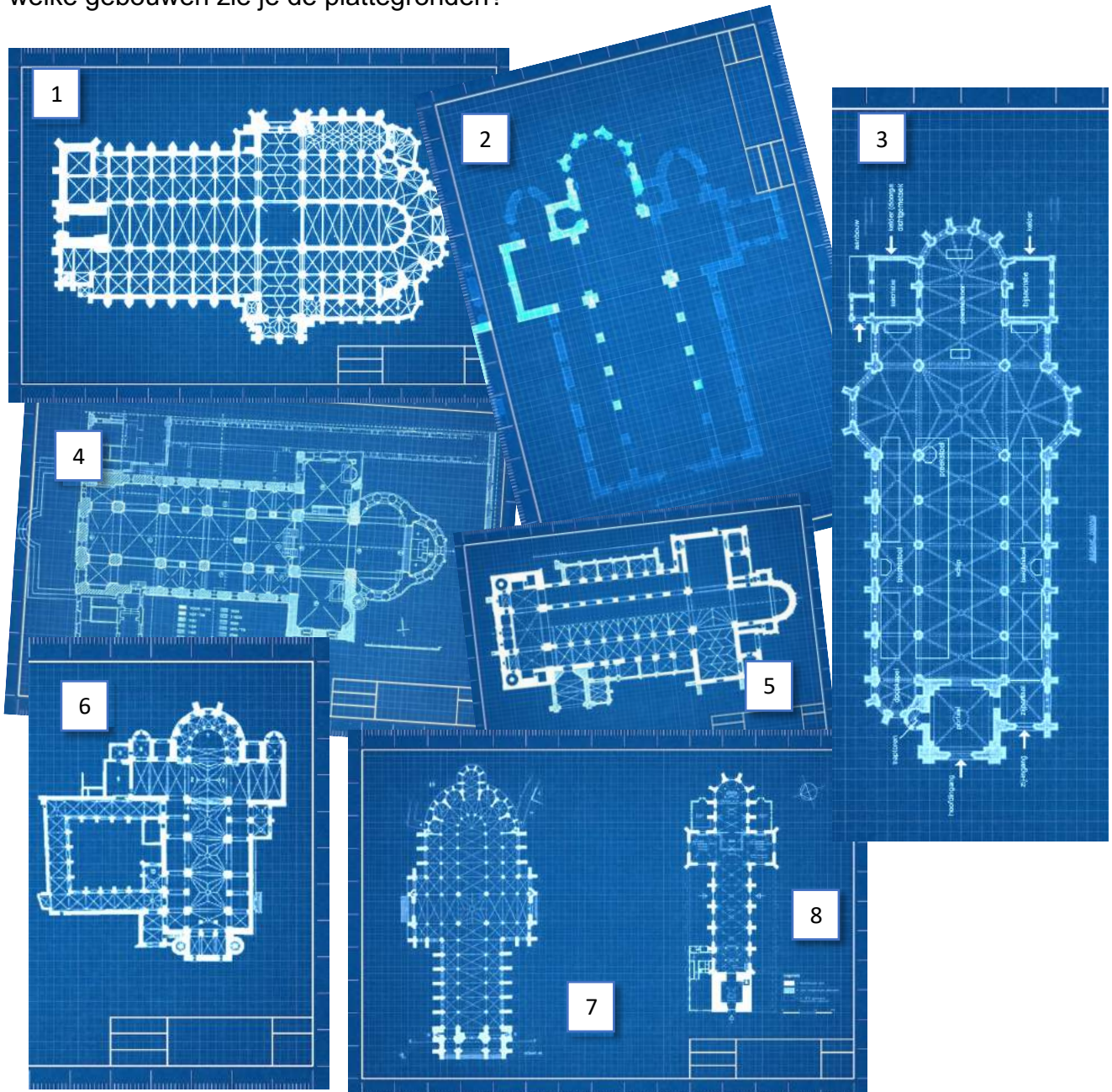
Welke wapen hoort bij welke Paus?

Verbindt de Paus met het juiste wapen door middel van een lijn.



Opdracht 26: Plattegronden ☆☆☆

Hieronder zie je een aantal blauwdrukken van kerken, basilieken of abdijen. Van welke gebouwen zie je de plattegronden?



- | | |
|-------------------------------|-----------------------------------|
| 1. Sint Jans, Den Bosch | 5. St. Servaes, Maastricht |
| 2. Basiliek, Sint Odilienberg | 6. OLV Sterre der Zee, Maastricht |
| 3. St Clemens, Waalwijk | 7. Notre Dame, Amiens |
| 4. Rolduc, Kerkrade | 8. OLV Basiliek, Zwolle |

Opdracht 27: Godsdienst trivia ☆

1. Welke heilige boeken zie je hieronder en bij welke godsdienst horen zij?



Boek
Godsdienst

Rig Veda
Hindoeïsme



Bijbel
Christendom



Koran
Islam

2. Welke Goden, leiders, Heiligen e.d. staan hieronder afgebeeld?



Brahman



Boeddha



St. Barbara

3. Waar is de rechter persoon de patrones van?

Mijnwerkers (en andere beroepen waar de dood op de loer ligt)

4. Op welke dag valt haar feestdag? **4 December**

5. Waarom staat er een toren afgebeeld?

Ze werd daar door haar vader opgesloten om haar uit handen van vrijers te houden die op haar afkwamen omdat ze zeer welgesteld was.

6. Wat betekent het zwaard dat ze bij zich heeft?
Haar vader onthoofde haar toen hij ontdekte dat ze in God geloofde
7. Wat betekent de bliksem?
Nadat haar vader haar onthoofd had, werd hij door bliksem getroffen
8. Hoeveel ramen had haar toren en waar verwijst dat naar?
3, die verwijzen naar de heilige Drievuldigheid

Opdracht 28: Op bedevaart ☆☆

Hieronder zie je 6 bedevaartsplaatsen afgebeeld. Sorteert ze op volgorde van dichtbij tot ver weg (gemeten in vogelvlucht van onze eigen Basiliek). Noem tevens de plaatsnaam en de naam van het afgebeelde gebouw.

Volgorde	Afstand (in km)	Plaatsnaam	Naam gebouw
1	39,72	Maastricht	OLV Basiliek
2	51,48	Kevelaer	Mariabasiliek
3	1004,89	Lourdes	Rozenkransbasiliek
4	1139,53	Rome	Sint Pieterbasiliek
5	1431	Santiago de Compostella	Kathedraal
6	1711,85	Fatima	Basiliek van het heiligdom



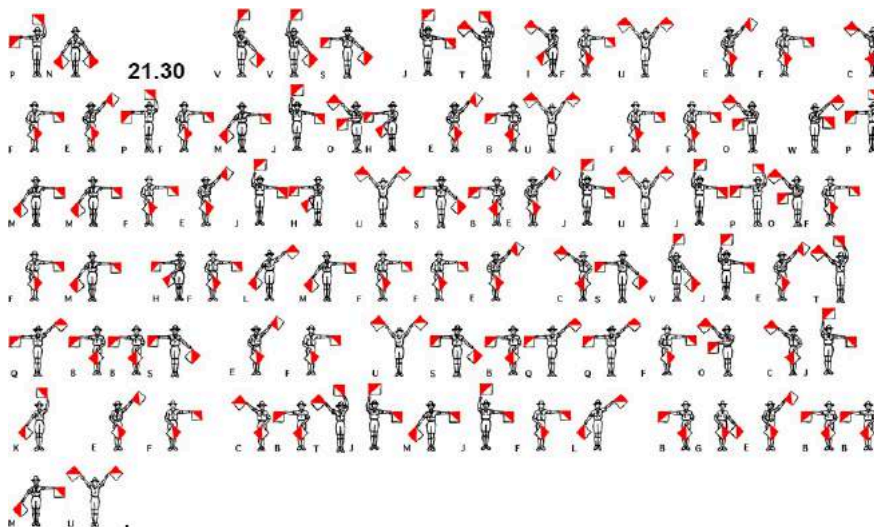
Opdracht 29: Beschermheiligen ☆☆



Hierboven zie je 6 beschermheiligen (willekeurige volgorde) en op de 2e rij een 6-tal logo's die 'verwijzen' naar een van de beschermheiligen. Zoek de naam van de heilige die hoort bij de logo's, A t/m F genoemd.

- | | |
|----------------|------------|
| A. Sebastianus | D. Odilia |
| B. Ambrosius | E. Cecilia |
| C. Hubertus | F. Barbara |

Opdracht 30: Eeuwige trouw



Opdracht 31: Een beroemdheid in Berg ★★★

1. Wat is de naam van deze beroemdheid?

Elly (van Velswyk)

2. Wat was de aanleiding van het grote feest? 40^e verjaardag van de Pony

3. Wanneer werd dit feest gehouden?

28 of 29 Mei 1988

4. Wie zat er in de organisatie? Noem 3 namen:

Paul Lankveld; Har Wolters; Cor van der Werf; Jo Peters; Carry Lankveld; Ted Janssen; Broer Bekkers; Ruud Wolters; Lau van Melick; L.Nijskens

5. Waar werd de opbrengst van het feest aan gedoneerd?

Het gehandicapte kind /het Kinderdagverblijf/ de Kinderboerderij en voor het bevorderen van het paardrijden voor gehandicapten in Limburg



Opdracht 32: De ogen uitkijken ☆



Van welke 10 dieren zie je hieronder de ogen?



Oog	Dier	Oog	Dier
1	Adelaar	6	Luipaard
2	Antilope	7	Lynx
3	Kameel	8	Duif
4	Kangoeroe	9	Olifant
5	Leeuw	10	Wolf

Opdracht 33: Hybride ☆☆

In de biologie is een hybride, kruising of bastaard het resultaat van geslachtelijke voortplanting van twee verschillende types van organismen, zoals planten of dieren.

De volgende afbeeldingen zijn van de afstammelingen.



Wij zijn op zoek naar de ouders en de naam van de hybride afstammeling. Naar wie precies de vader of moeder is wordt niet gekeken. Vul het schema op de volgende pagina in.

Hybride	Ouder 1	Ouder 2	Naam
1	Leeuw	Tijger	Lijger/Teeuw
2	Ijsbeer	Grizzly beer	Ijsgrizzly
3	Paard	Zebra	Zaard
4	Leeuw	Jaguar	Leguar/Jafgleeuw
5	Beloega	Narwal	Narloega/Narluga
6	Lama	Kameel/Dromedaris	Kama/Kamelama
7	Schaap	Geit	Gaap/Scheit
8	Zebra	Ezel	Zezel
9	Poelkikker	Meerkikker	Bastaardkikker
10	Azuurmees	Pimpelmees	Pleskes mees
11	Rund	Wisen/Bizon	Zubron/Beefalo
12	Fitis	Tjiftjaf	Tjifis/Tifjaf
13	Tuimelaar (dolfijn)	Zwaardwalvis	Walfijn
14	Serval	Kat	Savannah

Opdracht 34: Het beestje bij de naam noemen ☆

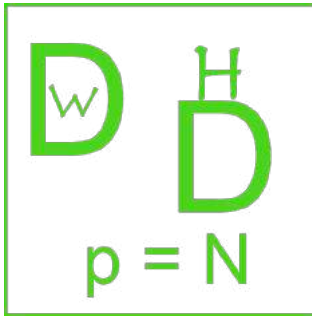
Over welke dieren hebben we het hier?

1. Dit dier speelt een rol in een televisieprogramma uit de zestiger jaren. Het beleeft zijn avonturen in het Waratah National Park:
Skippy de Boskangoeroe
2. De naam van het paard van Sinterklaas in Nederland tot 2019:
Amerigo
3. Zo heette de hond van Adolf Hitler:
Blondie
4. Deze hond speelde de hoofdrol in een Oostenrijkse politierserie:
Commisaris Rex
5. Een jonge ijsbeer die met de hand werd grootgebracht in de dierentuin in Berlijn:
Knut

6. Het paard dat kon praten in de gelijknamige serie:
Mr. Ed
7. Hoe heet de buizerd die op Wimbledon aanwezig is om de vogels af te schrikken?
Rufus
8. Geert Wilders heeft twee poezen. Hoe heten ze:
Snoefje en pluisje
9. In de dierentuin van Barcelona woonde een albinogorilla. Wat was zijn naam?
Sneeuwvlokje
10. Het meest succesvolle dressuurpaard was een Oldenburger ruin. Zijn naam:
Bonfire
11. Hoe heette het oudste gewervelde dier aller tijden?
Adwaitya
12. Deze chimpansee speelde mee in Tarzan-films:
Cheetah
13. De Japanse hond die bij het station op zijn baas bleef wachten:
Hachiko
14. De Romeinse keizer Caligula was dol op zijn paard:
Incitatus
15. Hond die in veel films de hoofdrol speelde tussen de twee wereldoorlogen:
Rin Tin Tin
16. Paris Hilton heeft een heel klein hondje, genaamd:
Tinkerbelle / Harajuku Bitch
17. Ontsnapte uit Blijdorp:
Bokito / Gier
18. Michael Jackson nam dit beestje mee tijdens optredens:
Bubbles
19. Het paard dat rekensommen kon oplossen:
Kluger Hans
20. Dit zeedier voorspelde de uitslagen van voetbalwedstrijden:
Octopus Paul

Opdracht 35: Beestachtig ☆☆☆

Welke dieren kun je hieronder vinden?



Windhond




Ezel



Otter



Nachtegaal



Ooruil



Zwijn



Ringworm



Ijsbeer



Das



Neushoorn

Opdracht 36: Van achteren kijk je een koe in de kont ☆

Welke achterwerken zie je hieronder?



Kont	Dier	Kont	Dier
1	Okapi	8	Koe
2	Olifant	9	Ree
3	Baviaan	10	Geit
4	Alpaca	11	Eekhoorn
5	Varken	12	Neushoorn
6	Everzwijn	13	Spin
7	Pauw	14	Kikker






Opdracht 37: Fluitje van een cent ☆☆☆

Beluister het fragment dat je doorgestuurd krijgt via Whatsapp. Welke vogels hoor je hier fluiten?

1. Merel
2. Nachtegaal
3. Roodborstje
4. (Hegge)mus
5. Tjiftjaf

Opdracht 38: Zo trouw als een hond ☆☆

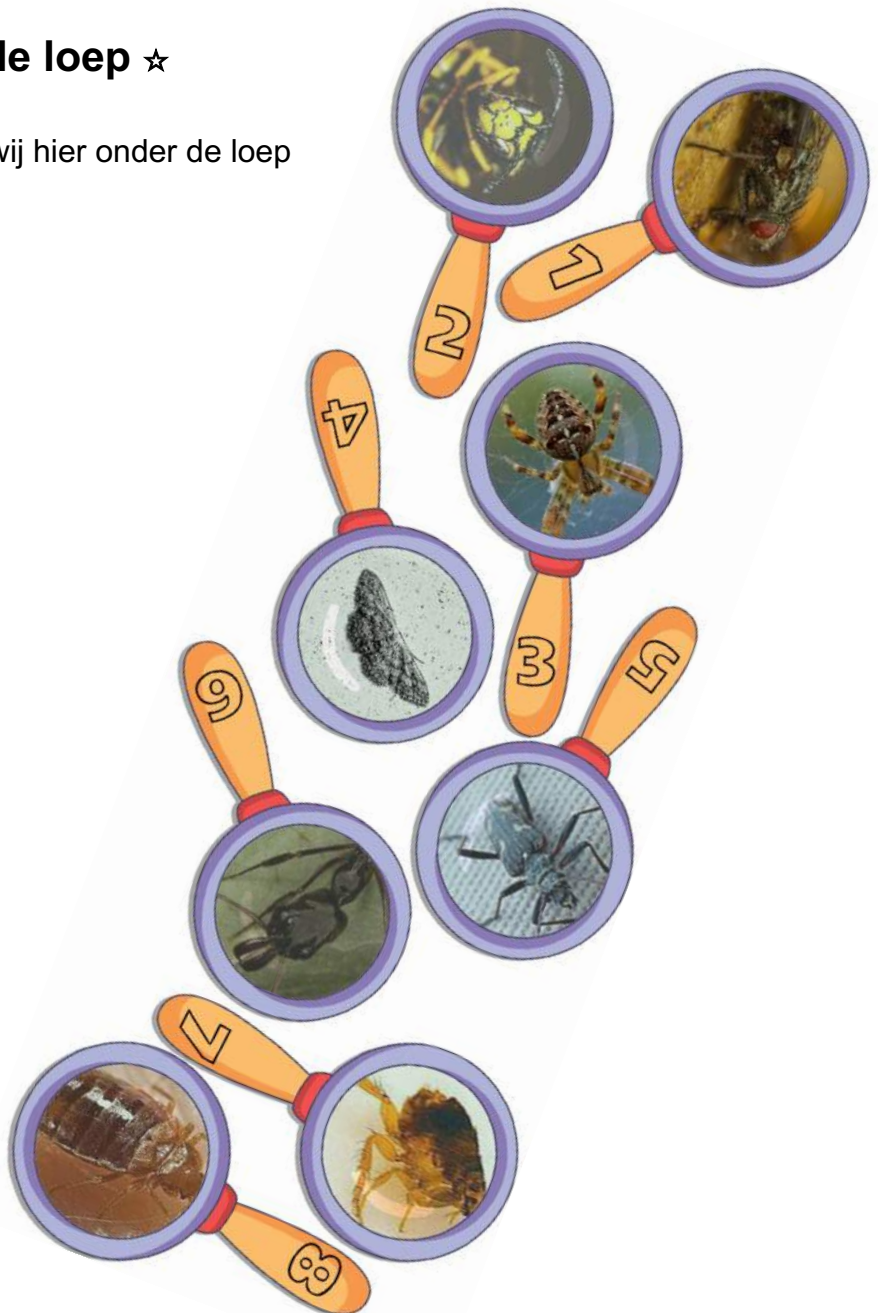
Hieronder zijn 5 foto's van honden die je misschien wel eens door Berg hebt zien lopen. Wat is de naam van deze honden en wie is/zijn hun baasje(s)?

	<u>Naam</u>	<u>Baasje(s)</u>
	Puck	Frank en Nienke
	Lotte	Hans Berhuis
	Mr. Wiebel	Marvin
	Luca	Peter Westheim
	Buda	Lars en Laura

Opdracht 39: Onder de loep ☆

Welke kleine diertjes hebben wij hier onder de loep genomen?

1. Vlieg
2. Wesp
3. Spin
4. Mot
5. Boktor
6. Mier
7. Vlo
8. Bedwants




Opdracht 40: Dierenlied

Maak een filmpje waarin iemand het refrein van een “dierenliedje” zingt.


App het filmpje voor 19.15 uur naar de organisatie.





Opdracht 41: Kruiswoordpuzzel ★★★



Horizontaal	Omschrijving
5	Maak van deze letters 6 Limburgse plaatsnamen: a. KOMO b. RACEN c. O-BROEKEN d. LEEGTEN e. MIJTERKOERS f. GANSHEENTOUR De beginletters van deze 6 plaatsnamen vormen het woord;
7	Hij sloeg er glas in gruzelementen en gaf mij een ons boterhamworst;
9	Gespannen reed de heilige weg hierin;

Horizontaal	Omschrijving
10	VIC IS TOETSI Maak van deze letters een goed Nederlands, doch weinig rekbaar begrip. Zoek vervolgens een synoniem van het gevonden woord en vul dat in;
11	Eens is 't weer Jaap;
12	Het tuig hiervan deugt niet;
15	Waat eine verwarde kal duis doe, kaerel. Doe höbs eine vogel;
16	10 tot 25 duizend soldaten in 2 tot 4 brigades;
17	De helft van de dans in de Moulin Rouge;
18	
20	Neem voor digitale muziek bijvoorbeeld een lengtecirkel: eraan moet eraf;
21	Hij begint zowat op de stip te voetballen;
23	Partij(tje);
24	Zowel vooruit als achteruit negatief;

Verticaal	Omschrijving
1	Thuisblijven;
2	Visitekaartje Welk beroep heeft deze persoon? Je mag/moet alle letters maar een keer gebruiken. <div data-bbox="880 1570 1339 1738" style="border: 1px solid black; padding: 5px; display: inline-block; margin-left: 20px;"> <p style="text-align: center;"><i>Dr. G. Keuren</i></p> <p style="text-align: center;"><i>Stein</i></p> </div>
3	Onlangs werd een sportevenement verwijderd, maar werd, na wat gehussel, toch nog een bruikbaar onderdeel van ouderwetse verwarming;
4	Bepaalde sport;
6	Als u in Latijnse aanbidding opgaat, klinkt muziek...en nieuws;

Verticaal	Omschrijving
8	Bevinden zich aan het eind van de akker...maar dan is het wel andersom...!
13	Belangenbehartiger voor gelovige werknemers;
14	Ik heb het weer in de keel, maar daar ben ik niet deskundig in;
15	Met een 'f' opgeslagen; 
19	Synoniem voor de rechtbank... 
21	Ongelofelijk dat zo'n klein beestje zo veel ongenoegen is;
22	Aanleiding zonder 'n toespraak;

Opdracht 42: Misschien moet ik kloppen als de bel het niet doet...

Wacht het bericht van de organisatie af.



Opdracht 43: Alle kaarten op tafel ☆☆☆

Een standaard set speelkaarten bestaat uit 52 kaarten, onderverdeeld in 4 “kleuren” van elk 13 kaarten. De quizmaster gaat met jullie (de speler) een aantal spelletjes spelen.

De quizmaster schudt een standaard set door elkaar en legt de stapel met de waardes omlaag op tafel. Vervolgens pak jij van bovenaf steeds 1 kaart en bekijkt deze.



(Percentages in deze vraag dienen (indien nodig)

afgerond te worden op 2 decimalen en je begint steeds overnieuw.)

1. Hoe groot is de kans dat jij bij de eerste 2 kaarten eenzelfde kleur pakt?
23,53 %
2. Hoe groot is de kans dat de eerste 4 kaarten elk van een andere kleur zijn?
10,55 %
3. Je gaat op de beschreven manier door de hele stapel van 52. Hoe groot is de kans dat de eerste en laatste kaart van dezelfde kleur zijn?
23,53 %
4. Hoeveel kaarten moet je minimaal pakken om gegarandeerd een “four of a kind” te hebben?
40 %

Vervolgens legt de quizmaster 4 kaarten omgedraaid op tafel en bekijkt zelf de waardes. Hij geeft jou een aantal hints:

Hint 1: Een kaart die rechts van een andere kaart ligt kan nooit een hogere waarde hebben.

Hint 2: Er zit geen plaatje of aas tussen.

Hint 3: Het waardeverschil tussen kaart 2 en 4 is 8.

Hint 4: Tussen kaart 1 en 3 zit een waardeverschil van 7.

Hint 5: Het zijn allemaal rode kaarten.

Hint 6: De meest linkse kaart is een harten.

Hint 7: De andere kaarten hebben een kleur die verschilt van de linkse kaart.

5. Wat zijn de 4 kaarten?



Kleur:

Harten Ruiten Ruiten Ruiten

Waarde:

10 10 3 2

Hierna krijgt de speler van elke kleur de boer, vrouw, heer en aas.

6. Leg deze zo neer dat er een vierkant ontstaat van 4x4 kaarten waarin in elke rij, kolom en diagonaal bestaat uit 4 kleuren en waarin elke waarde maar 1 keer voorkomt. Geef in het diagram hieronder de waarde en kleur van elke kaart aan.

Ondertussen dat jij met vraag 6 bezig bent legt de quizmaster een reeks kaarten op tafel.

7. Zodra jij klaar bent met de boeren, vrouwen, heren en azen vraagt hij jou uit het overgebleven pak kaarten de reeks aan te vullen. Welke 3 kaarten horen op de vraagtekens te liggen?

♥2	♠9	♦4	♣8	♥6	♠7	<u>Ruiten</u> 8	<u>Klaver</u> 6	♥10	<u>Schoppen</u> 5
----	----	----	----	----	----	--------------------	--------------------	-----	----------------------

Opdracht 44: RAL ☆

RAL is een coderingssysteem om kleuren van verf en andere coatings te definiëren. Het systeem is in 1927 in Duitsland ontwikkeld; RAL staat voor ReichsAusschuss für Lieferbedingungen, oftewel "Rijkscommissie voor Leveringsvoorwaarden" in goed Nederlands.


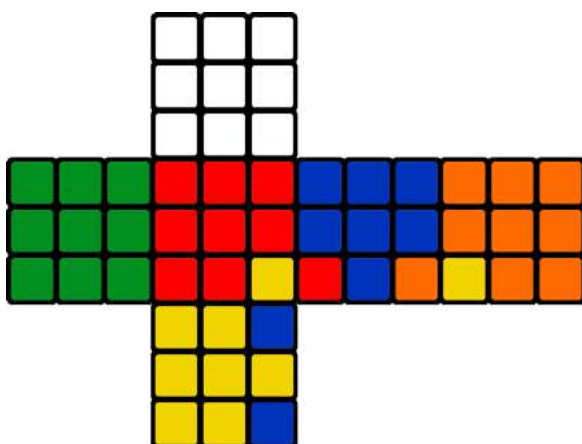
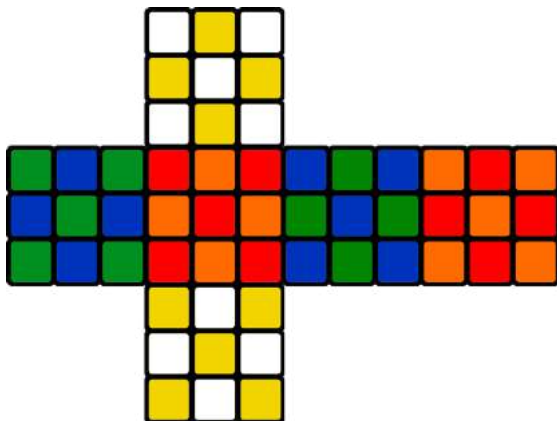

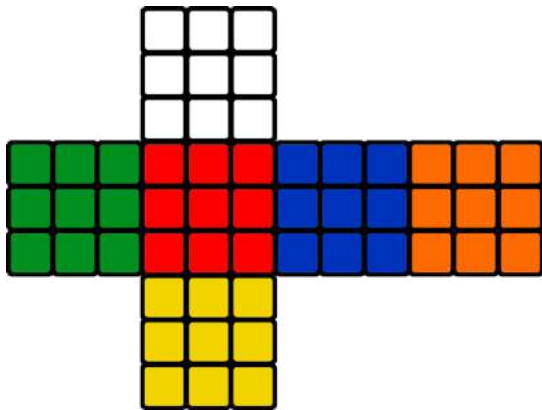
De RAL kleurenwaaier bevat een lijst van meer dan 200 kleuren, die genoemd worden volgens de gestandaardiseerde namen. Vul de **tabel** hieronder kloppend in:

RAL	Naam	RAL	Naam
5024	Pastelblauw	7005	Muisgrijs
9001	Crèmewit	6029	Mintgroen
7016/ 7026	Antracietgrijs	3005	Wijnrood
1014	Ivoorkleurig	8004	Koperbruin
8017	Chocoladebruin	1024	Okergeel
3018	Aardbeirood	5015	Hemelsblauw
2002	Vermiljoen	2012	Zalmoranje
4012	Parelmoer lichtviolet	6000	Patinagroen
7021	Zwartgrijs	3026	Briljant lichtrood
5017	Verkeersblauw	8028	Terrabruin

Opdracht 45: Rubik's kubus ☆☆

Misschien wel de **meeste populaire** puzzel ter wereld: de kubus van meneer Rubik.

Hieronder zijn 3 uitslagen getekend naast een foto van de kubus. Kleur deze uitslagen volledig in met stiften.



Opdracht 46: Kleurrijke vragen ☆

In elk antwoord van onderstaande vragen zit een kleur verborgen. Los de vragen correct op.

1. Gezocht wordt een Franse Formule 1 autocoureur. Hij kwam uit voor Marussia F1 team uit Rusland. In 2014 had hij een ongeluk in Japan en overleed in het ziekenhuis. Wat was zijn achternaam?

Biancchi

2. In 1872 is er in Amerika een nationaal park gesticht. Het bezit mooie rivieren en meren maar ook warmwaterbronnen en geisers. Welk park wordt gezocht?

Yellowstone

3. In België zijn er weinig Nobelprijswinnaars. Maurice Maeterlinck won er een voor de literatuur. Wat was de naam van zijn werk? **L'Oiseau bleu**

4. Er wordt een kinderziekte gezocht. Koorts en huiduitslag die begint in het gezicht en zich daarna uitbreidt over het lichaam.

Rodehond

5. Welke kooktechniek bestaat uit: voedsel kort koken en daarna met koud water afspoelen?

Blancheren

6. Het balletje vertrekt op de "tee" en moet in de "hole". Hoe heet de zone waar de "hole" in ligt?

Green

7. Hoe heet de vijfde Romeinse Keizer?

Nero

8. Welk jubileum vier je als je 50 jaar getrouwd bent?

Gouden

9. Wat was de naam van de splintergroep van de PLO die in 1972 9 atleten gijzelde?

Zwarte september

10. Dit kabinet bestaat uit liberale en sociaaldemocratische partijen.

Paars

Opdracht 47: Mastermind ☆☆

Naar welke kleurcode wordt in dit spelletje Mastermind gezocht? Kleur de onderste 4 bollen correct in.

- | | | | | |
|---|---|---|---|--|
|  |  |  |  | 1 kleur goed, maar staat op de verkeerde plaats. |
|  |  |  |  | 2 kleuren goed, maar 1 kleur op de juiste plaats. |
|  |  |  |  | 2 kleuren goed, maar beide op de verkeerde plaats. |
|  |  |  |  | 1 kleur is fout en de andere 3 staan op de verkeerde plaats. |
|  |  |  |  | Alle kleuren zijn fout. |
|  |  |  |  | 1 kleur is goed, maar staat op de verkeerde plaats. |
|  |  |  |  | 1 kleur is goed en staat op de juiste plaats. |
|  |  |  |  | ← Antwoord |

Opdracht 48: Nonogram ☆☆

Wat moeten de onderstaande 3 nonogrammen voorstellen? Kleur ze tevens in.

				1	1	2	2		2	2	3	4		
	3	2	1	2	1	2	3	2	2	2	2	1	4	3
	3	4	4	3	2	2	3	2	2	2	1	1	2	3
2	11													
4	9													
1	3	1	4											
1	2													
2	2													
4	1	3	1											
9	4													
11	2													

Roerdalen vlag

				1	1									
		2	1	1	1	2	2	2	2	3	3	3	4	4
	3	1	1	1	2	5	5	5	3	3	3	1	1	
	3	2	1	1	1	2	2	2	3	3	3	4	4	
2	11													
5	8													
1	4	5												
1	1	6	2											
	1	8												
1	1	6	2											
1	4	5												
5	8													
2	11													

Sint Odilienberg Vlag

		2	1	1	1									
	2	1	2	5	2	2	2	2	2	2	2	2	2	2
	3	1	2	3	1	3	3	3	3	3	3	3	3	3
1														
1	1													
3	1													
3	2	8												
2	2	9												
2	1	1	1	8										
1	1	2	1	8										
	13													

Vlag limburg

Opdracht 49: Kleur bekennen ☆

Vul het juiste spreekwoord of zegswijze in bij de juiste kleur.

Kleur	Betekenis	Spreekwoord/ Zegswijze
Blauw	Afgewezen worden	Een blauwtje lopen
Bruin	Iets vrijwel zeker weten	Een donkerbruin vermoeden hebben
Geel	Er zeer kwaad uitzien	Geel van nijd zien
Groen	Jong en onervaren	Groen achter de oren
Wit	In de gunst proberen te komen	Een wit voetje halen
Rood	Buiten zinnen van woede	Over de rooie zijn
Grijs	Iets is nog onduidelijk	Een grijs gebied
Groen	Bij een anders is het altijd beter	Het gras is groener aan de overkant
Blauw	Iemand zomaar geloven	Iemand op zijn blauwe ogen geloven
Bruin	Iets overdrijven	Iets bruin bakken
Roze	Alles optimistisch bekijken	Door een roze bril kijken
Wit	De man van je dromen	De prins op het witte paard
Blauw	Gedurende een korte tijd	Een blauwe maandag
Groen	Toestemming krijgen	Groen licht krijgen
Grijs	Onopvallend iemand	Een grijze muis
Geen	Onopvallend iemand	Een kleurloos iemand

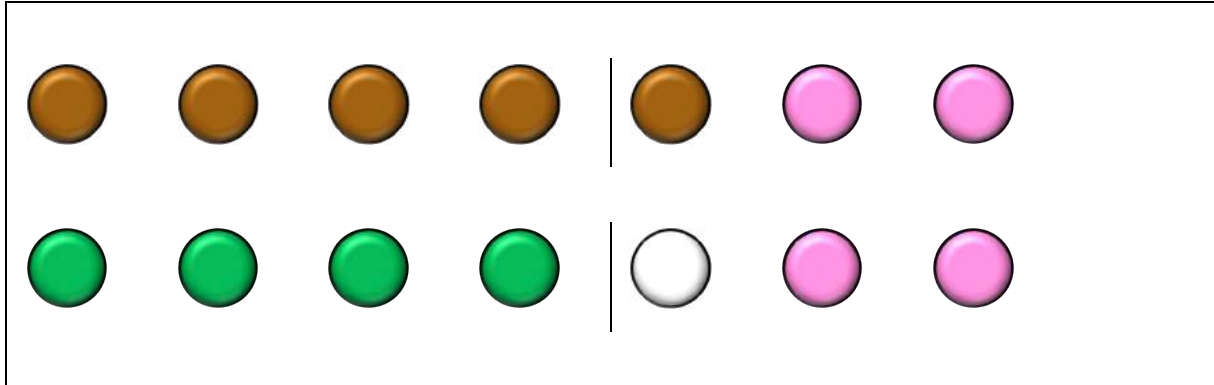
Opdracht 50: De controller is machtiger dan het zwaard ☆☆

Videogames hebben altijd interessante wapens. Jij krijgt van ons de naam. Wij zoeken de bijbehorende videogame (of game serie), de drager (personage of de legendarische eerdere bezitter) en dominante kleur (zwart of grijs alleen als het wapen geen andere kleur heeft).

	Naam	Videogame	Drager	Kleur
1	Thunderfury	World of Warcraft	Thunderaan	Blauw
2	Buster Sword	Final Fantasy VII	Cloud Strife	Goud / Rood(Bruin) / Grijs
3	Master Sword	The Legend of Zelda	Link	Paars
4	Keyblade	Kingdom Hearts	Sora	Goud
5	Diamond Sword	Minecraft	Steve (Jij/Speler)	Blauw
6	Vampire Killer	Castlevania	(Simon) Belmont	Bruin / Grijs
7	Mark 2 Lancer	Gears of War	Coalition of Ordered Governments COG	Blauw
8	Golden Gun	GoldenEye 007	Francisco Scaramanga	Goud
9	Blue Shell	Mario Kart	Mario (ieder karakter)	Blauw
10	Soul Edge	Soul Calibur	Algol / Arcturus	Rood
11	Hidden Blade	Assassins Creed	Darius / Altaïr Ibn-La'Ahad	Grijs / Bruin
12	Mega Buster	Megaman	Megaman	Blauw
13	ASHPD	Portal	Test Subject	Wit / (Blauw / Oranje)
14	Blades of Chaos	God of War	Kratos	Rood (Grijs / Bruin)
15	Energy Sword	Halo	Sangheili	Blauw
16	Gunblade	Final Fantasy VIII	Squall Leonhart	Grijs / Zwart (Rood/Blauw)
17	BFG	Doom / Quake	Doomguy	Groen / (Grijs)
18	Alastor	Devil May Cry	Dante	Goud / Blauw (Grijs)
19	Coconut Shooter	Donkey Kong	Donkey Kong	Bruin
20	Crowbar	Half-Life	Gordon Freeman	Rood

Opdracht 51: Spelen op kleur ☆

Hier zie je het begin van een liedje. Welk liedje? $3 \times 3 = 9$



Opdracht 52: Diamonds are forever

Voltooi de 3 “diamond paintings” en lever deze samen met het kwisboek in.



Opdracht 53: Kruidenierswinkel ☆☆

Deze oude Bergenaren hadden een kruidenierswinkel.



1. Wat is hun naam? (Voor- en achternaam)

Truus en Cor Peters-Meijers

2. Wat was de naam van hun winkel? (welke keten?)

IFA

3. Op welke straat was de winkel gevestigd?

Hoofdstraat

4. Wat was het huisnummer?
7

5. Waar hadden ze nog meer een winkeltje? (straat + huisnummer)

Veldstraat 1a Reutje

6. Noem nog 3 kruideniersketens uit **de** tijd die ook hier in Berg gevestigd waren.

Spar, Vege, Enkabe, Vivo, De Ster

Opdracht 54: Vastelaovend in Berg (2023) ☆☆

1. Onger welke sjpreuk regeert ut Jeugprinsepaar?

Veer tente 3 daag alles oet

2. Wat sjting er in de proclamatie van Prins Don I bij ten Elfde?

**Det mit vastelaovend belangrijk neet leuk is maar leuk waal belangriek,
Alaaf**

3. Wieväöl jaor lid ware de jubilarisse bij de Berggeite same?

345 jaor

4. Wat was ut antjwoord op rebus 3 van Berg Kwis't in de vastelaovesgezet?

Vrunj tot de allerletste runj

5. Sjoon versierde rame en posters, wo zeen de foto's gemaakt?



- | | |
|------------------------------------|-------------------------------|
| 1. Molenweg 14 | 6. St. Wirostraat 4 |
| 2. Hoofdstraat (tegenover Heemels) | 7. Molenweg hoek Kapittellaan |
| 3. Morgenweg 23B | 8. Gemetstraat 2 |
| 4. Kan. Willemestraat 17 | 9. Hoofdstraat 56 |
| 5. Past. Siebenstraat 13 | 10. Morgenweg 14 |

Opdracht 55: Straatnamen ☆

Welke Bergse straatnamen kun je hieronder vinden?



FA = PH M = I



IP = E



MP = L NE = LA OM = R

1. Sophia de Pollartstraat



KI = C G = P EN = S G = U OS = E -IP

2. Schepersheuvel



ME = OU



UW = NT HO = F OU = ER -O

3. Oude montfortweg



LE = B OG = K FA = L MO = E

4. Berkenallee



-AL EK = TTCO = EL RK = N

5. Kapittellaan



UN = H DA = BE MS = W -EL

6. Hobertsweg

Opdracht 56: Bergenaren in the picture ☆☆

Bergenaren in the picture. Wie zijn dit?



Toos Sonntag
&
Harry Sonntag



Lei Regli



Moeder Matthea



Henk van der
Linden



Lies Reulen
(of Harrie
Korsten)



Gerard Sars



Piet Fieten



Hub Meuwissen

Opdracht 57: Wat een bedrijvigheid ☆☆

Welke (soorten) bedrijven of instanties waren vroeger gevestigd in deze panden? Vul de tabel compleet in.



Nummer	Soort bedrijf/instantie	Naam uitbater	Adres + Huisnummer
1	Bakkerij/Taxi	Ton Smeets	Odiliastraat 11
2	Bakker	Fam. Wolters	Hoofdstraat 22
3	Furniture	Fien palmen	Bernhardlaan 1
4	Fruit/Appels	Fam. Schmitz	Hoofdstraat 10
5	Fruit/Groente	Fam. Slangen Benen (An van de patsj)	Odiliastraat 10
6	Schilder	Fam. Loenders	Odiliastraat 9
7	Bakker	Fam. Puts	Bernhardlaan 30
8	Houthandel	Fam. Smeets	Hoofdstraat 40
9	Cafe/Slijterij/Veiling	Fam. V. Cruchten	Hoofdstraat 26
10	Politiebureau	Politie	Past. Ceysenstraat 7

Opdracht 58: Memory ☆☆

Er bestaat een memoryspel met afbeeldingen uit St. Odiliënberg.

Hiernaast zie je 13 setjes. Welke afbeeldingen zijn het?

1. Wegkruis Gulickerweg
2. Heemkundemuseum
3. Hoosden
4. Naamplaatsbord
5. Pomp Reutje
6. Mariabeeld Jongenhof
7. Kappelletje bij Overen
8. Kruis Hagelkruisweg
9. Basiliek



10. Heilig hartbeeld
11. Kruis bij kerkberg
12. De Geit
13. De Zjweine

Welke setje is niet compleet in de afbeeldingen hieronder?



De Zjweine



Heilig Hartbeeld



De Basiliek



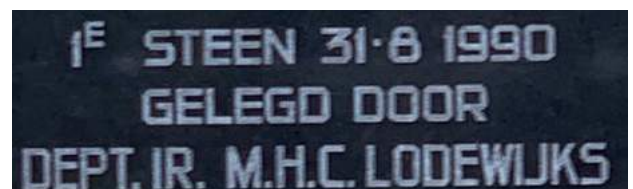
Heemkundemuseum

Opdracht 59: Berg nao de Berg ☆

1. Welke 2 mannen uit ons dorp reden de Alpe d'Huzes dit jaar?
John Smeets en Jack Mestrom
2. Hoeveel keer hebben ze de berg bedwongen?
John 5 keer Jack 6 keer
3. Hoeveel sponsorgeld hebben ze bij elkaar gebracht?
17 Duizend euro (+/-)
4. Noem minimaal 4 acties die ze hiervoor gehouden hebben?
Pubquiz / Bloempotten / Spinning clinic / Berg nao de Berg Bier / KoffieChocomel
5. Noem nog 3 mensen uit ons dorp die in het verleden in dit kader de Alpe D'Huez ook al bedwongen hebben?
Sjoerd, Silas, Jef e.a.

Opdracht 60: Jong Nederland Sint Odiliënberg ☆☆

1. Op welke avond (datum) vond de allereerste groepsbijeenkomst van Jong Nederland in Berg plaats?
Maandagavond 15 november 1982
2. Noem alle voorzitters (voor en achternaam) van Jong Nederland Sint Odiliënberg:
Lei Regli, Frank Konings, Pierre Konings, John Beckers, Marc van Hagen, (Har Engels)
3. Hiernaast zie je een foto van de eerste steen van het clubgebouw Inne Zandj. Welke naam staat hieronder nog vermeld en wat ligt er ingemetseld achter deze steen?
Jarno Daemen, een lijst met handtekeningen van alle leden en leiding van dat moment



4. Ter ere van het 25-jarige bestaan werd een film opgenomen door alle leden. Wat is de titel van deze film en wie verzorgde het camerawerk?
Het croke mystery / Karel Verhesen
5. Tijdens het grootkamp van 2008 mocht niemand het bos betreden. Wat was hiervan de reden?
Valkuilen
6. Over kampen gesproken. Vul onderstaande lijst met grootkamp locaties in:

Jaar	Plaats	Jaar	Plaats
1985	Opoeteren	2005	Baarlo
1986	Roggel	2006	Beesel
1987	Horst-America	2007	Bocholt
1988	Opglabbeek	2008	Helden
1989	Noorbeek	2009	Opoeteren
1990	Hunsel	2010	Zutendaal
1991	Zutendaal	2011	Helden
1992	Oirlo	2012	Venray
1993	Opoeteren	2013	Baarlo
1994	Someren Heide	2014	Someren Heide
1995	Bocholt	2015	Bocholt
1996	Horst-America	2016	Lierop
1997	Opoeteren	2017	Neeroeteren
1998	Hamont Achel	2018	Sint Martens-Voeren
1999	Roggel	2019	Helden
2000	Grashoek	2020	-
2001	Someren Heide	2021	Sint Odilienberg
2002	Beesel	2022	Someren Heide
2003	Opglabbeek	2023	Lierop
2004	Opoeteren	2024	Swalmen

7. In welke jaren werd het kamp vroegtijdig afgebroken omdat door zware regenval het hele kampterrein ondergelopen was?
2003 / 2023
8. Met grootkamp gaat er altijd een koelwagen mee om drank en eten gekoeld te houden tijdens het kamp. Het frame waaromheen deze wagen gebouwd is had vroeger een andere functie. Wat was deze functie?
Kapelletje (in de processie van Vlodrop)
9. Om activiteiten te organiseren is er ook een budget nodig. Om dit te vullen zijn gedurende de jaren verschillende lekkernijen deur aan deur verkocht door Jong Nederland. Noem er drie:
Erwtensoepe, Appels, Peren, Marsen

Opdracht 61: Bergse Varia ☆☆

1. Waar in Berg kun je dit beeldje vinden?

Priorij Thabor

2. Op welke datum ging de Roerbrug dicht? En wanneer definitief open?

11 Januari – 17 Februari

3. Welke groep won de 1e prijs in de Vastelaovesoptocht in de categorie wagens dit jaar?

CV in de midden

4. Welke band trad als 2e op dit jaar bij Rock am Roer?

Nur Deutsche Welle

5. Waar staat deze mini-bieb?

Aerwinkelsweg Reutje

6. 18 december 2022 gaf het Roerdalen “ouderen-orkest” hun eerste optreden in Melick; 9 juli gaven ze concert in het Reutje. Hoe heet dit orkest voluit?

Nieuw talenten orkest Roerdalen

7. Welk nummer had onze schutterij in de optocht tijdens het laatste OLS?

62

8. Op welke datum dit jaar kon je “gratis georganiseerd sporten” bij de Basiliek?

10 Juni

9. Welk echtpaar uit St. Odiliënberg was op 2 mei 2023 60 jaar getrouwd?

Diesch Louwarts

10. Welke 2 woorden ontbreken op dit bord?

Met elkaar



Opdracht 62: Bergenaren verenigt U!


Maak 1 foto waarin teamleden gekleed zijn in de volgende kledingstukken en met het aangegeven attribuut:

- Steek van een carnavalsvereniging uit Berg
- Jasje Fanfare of Harmonie
- Shirt FC Roerdalen of Volleybalvereniging
- Pet van schutterij
- Kledingstuk van JN
- De tas van de Plus



App deze foto voor 20:00 uur door naar de organisatie.

Opdracht 63: Dolen in geschriften ☆☆☆



Vraag: Waar gebruikt men dit schrift?

Antwoord: Slavische landen / Rusland

Opdracht 64: De tocht der tochten ☆

1. Noem de 11 steden van de elfstedentocht:
Leeuwarden, Sneek, IJlst, Sloten, Stavoren, Hindeloopen, Workum, Bolsward, Harlingen, Franeker en Dokkum
2. Hoe lang is de tocht?
199km
3. Hoe dik moet het ijs zijn?
15cm
4. Wat zijn ijstransplantaties?
Kleine wakken die opgevuld worden met ijs
5. Wat is klunen?
Met de schaatsen lopen

6. Met welke woorden wordt de tocht aangekondigd?

It giet aon

7. Elke deelnemer krijgt een stempelkaart. Hoe wordt deze afgestempeld?

Met de hand

8. Hoeveel geheime stempelposten zijn er en waarom?

Drie, zodat deelnemers niet met de auto gaan

9. Hoe wordt daar de kaart "afgestempeld"?

Met een gaatjestang

10. Van wie was deze stempelkaart?

Koning Willem Alexander

11. Wat ontvangen de deelnemers na afloop?

Elfstedenkruisje

12. Vul onderstaande tabel correct in:



Jaar	Winnaar	Woonplaats (winnaar)	Finishtijd
1941	A. Adema	Franeker	9.19
1942	S. de Groot	Weidum	8.44
1947	J. van der Hoorn	Ter Aar	10.51
1954	J. van den Berg	Nijbeets Heerenveen	7.35
1956	Geen prijs uitgereikt		
1963	R. Paping	Ommen Dedemsvaart	10.59
1985	E. van Benthum	St. Jansklooster	6.47
1986	E. van Benthum	St. Jansklooster	6.55
1997	H. Angenent	Woubrugge Alphen a/d Rijn	6.49

Opdracht 65: Ticket to Ride ☆☆

We pakken de trein door Europa en gaan Ticket to Ride (Europa) spelen.

Beantwoord de volgende vragen:

1. Ze zeggen wel eens dat alle wegen naar Rome leiden, maar waar leiden de meeste routes **naar toe** in Europa volgens dit spel? Geef de naam van de stad en geef aan uit hoeveel steden deze stad te bereiken is:

Parijs, 7

2. Je reist van Rome naar de stad die tegenwoordig Izmir genoemd wordt. Je neemt hierbij de route die je de minste wagonnetjes kost. Hoeveel locomotief kaarten heb je hiervoor moeten inleveren?

2 (1 van Brindisi naar Athene en 1 van Athene naar Smyrna)

3. Vanuit Danzig kun je door 7 kaarten in te leveren reizen naar Budapest. Hoeveel landsgrenzen passeer je volgens het spel?

2

4. Hoeveel grensovergangen zijn dat tegenwoordig? We gaan ervanuit dat de trein tussen Wenen en Budapest ten zuiden van de Donau rijdt.

4 (Polen – Slowakije / Slowakije – Oostenrijk / Oostenrijk Hongarije)

5. Je reist via de kortst mogelijke route van Berlijn naar Sint Petersburg. Je hebt al vier gele kaarten gespeeld.

Welke kleuren kaarten heb je nog meer ingeleverd en hoeveel kaarten van elke kleur heb je in totaal ingeleverd om deze route tot stand te brengen?

3 Rode, 4 Blauwe (3 plus de 4 die je al had) (of via zwart)

6. Voor een bepaalde route zijn de volgende kaarten ingeleverd: 3 Oranje, 8 Zwarte, 4 Blauwe, 1 Roze en 1 Locomotief. Dit is de kortste route en hierbij is er een tunnel gepasseerd. Dit laatste heeft je geen extra kaart gekost. Tussen welke 2 steden bevindt deze route zich?

Cadiz en Edinbgrugh (3 Oranje, 3 Zwarte, 4 Blauwe, 1 Roze, Locomotief en 1 Zwarte, 4 Zwarte)

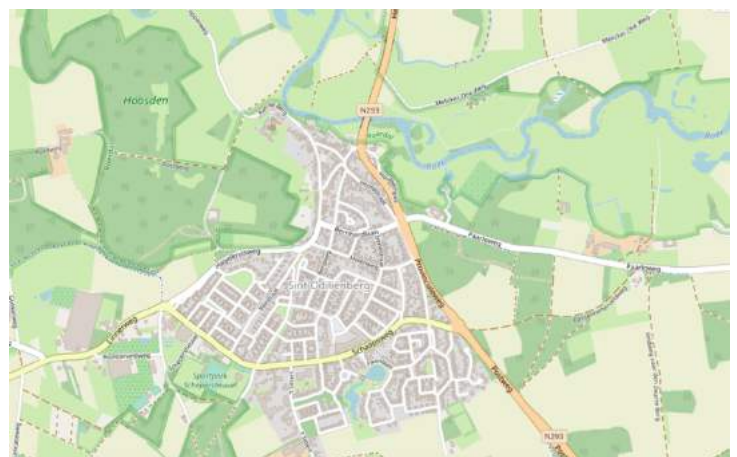
Opdracht 66: X marks the spot ☆☆

Op een ouderwetse schatkaart geeft X de plek van de schat aan. Teken op de kaart de volgende vier punten in.

- 51°08'57.7"N 6°00'45.0"E
- 51°08'30.4"N 6°00'53.0"E
- 51°08'31.5"N 5°59'25.1"E
- 51°08'57.8"N 5°59'33.7"E

Welk gebouw wordt aangeduid met de X?

Basisschool t Kempke



Opdracht 67: Rond de wereld in 10 vragen ☆

1. In Schotland is golf begonnen. Welke andere sport kan de oorsprong in Schotland vinden?

Curling

2. Deze kleurrijke planten, die oorspronkelijk alleen in tropische landen voorkwamen, werden genoemd naar botanici, op één na. Wie van deze mannen was geen botanicus:

A. Bougainvillea (Louis Antoine de Bougainville)

B. Magnolia (Pierre Magnol)

C. Poinsettia (Joel R. Poinsett)

D. Gloxinia (B.P. Gloxin)

3. In welk Aziatisch land vind je waarschijnlijk basashi (rauw paardenvlees), nankotsu (gebakken kippenkraakbeen) en inago (knapperige sprinkhanen) op het menu?

Japan

4. Welk land heeft de meeste eilanden?

Zweden

5. De moderne Olympische Spelen begonnen in 1896 in Athene. Welke Amerikaanse stad was de eerste die de spelen in de 20e eeuw organiseerde?

Saint Louis

6. De Verenigde Staten importeerde al deze dansen uit Cuba, op één na:

A. Rumba

C. Mambo

B. Tango

D. Cha-Cha

7. Papieren of digitale kaarten zijn handige hulpmiddelen voor reizigers. Het woord kaart komt van?

Latijn voor servet of handdoek

8. Nieuw-Zeeland, China en Argentinië behoren tot de grootste honingproducenten. Welke van de volgende landen behoort niet tot de top consumenten per hoofd van de bevolking?

A. Japan

C. India

**B. Centraal-Afrikaanse
republiek**

D. Duitsland

9. Welke stad heeft volgens Jan Morris "de gave van tijdloosheid"?

Leningrad (Sint Petersburg)

10. De eerste zeppelin vloog in 1900. Wanneer begon de commerciële passagiersvaart met zeppelin's?

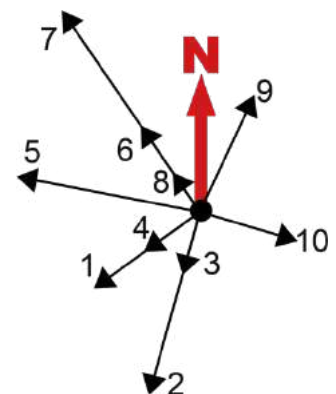
1910 (Delag)

Opdracht 68: Rondje **dor** het park ☆☆☆



Loop de aangegeven route die hier recht weergegeven staat.

Waar kom je uit? **6 Pastoriegoed**



Opdracht 69: Tour de France 2023 ☆

1. Tijdens de eerste rit zorgde een tweeling voor een sensatie. Wie won? De oudste of de jongste?

Oudste

2. Waar had Mike Teunissen last van tijdens de eerste paar dagen van de Tour?

Koffer met kleren verloren

3. In rit 5 kreeg voormalig Ronde van Vlaanderen winnaar Bettiol een boete voor urineren in het openbaar. Hoe hoog is deze boete?

200 Zwitserse franc

4. Wie won de Souvenir Jacques Goddet en waar krijg je deze prijs voor?

Tobias Halland Johannessen , Als eerste boven op de Tourmalet

5. Op de mythische Puy de Dome werd Matteo Jorgenson na een lange solo in de laatste kilometer ingehaald. Dit was echter niet de enige pech die hij had deze rit. Wat gebeurde er eerder tijdens de rit?

Hij werd gestoken door een wesp/bij

6. Welke renner passeerde als eerste de tussensprint in etappe 11?

Matis Louvel

7. Tadej Pogacar plaatste een demarrage in de laatste kilometer van de Col du Joux Plane, maar moest deze aanval staken. Wat was hiervan de reden?

Motoren reden in de weg

8. Wie reed in de bolletjestrui tijdens de 15e etappe?

Neilson Powless (Vingegaard was de echte drager, maar had al de gele trui aan)

9. Tijdens de tijdrit deelde Vingegaard een flinke tik uit aan Pogacar. 1 van deze 2 tenoren wisselde aan de voet van de slotklim van fiets. Wie van de twee?

Pogacar

10. Daags na de koninginnenrit ging Wout van Aert naar huis om bij de geboorte van zijn tweede kind te zijn. Wat is de naam van zijn pasgeboren kind?

Jerome

Opdracht 70: Tocht door Europa ☆☆☆

Van welke 17 staten in Europa zie je hier een stukje?



Andorra



Letland



Denemarken



Ierland



Moldavie



Nederland



Roemenie



Rusland



Italië



Noord Macedonie



Frankrijk



Griekenland



San Marino



Slowakije



Zwitserland



Belgie



Noorwegen

Als je de gekleurde letters overbrengt vind je een ander deel van Europa. Welke?

De Middellandse zee

Opdracht 71: Rondje sacramentsprocessie via streetview

☆☆

Let op de data. Op streetview zijn vaak meerdere opname-datums te zien.

April 2023 We gaan van Priorij Thabor naar Frans Huijerjans Assurantiën.

*Welke kleur auto kom je als eerste tegen? **Wit***

April 2023 We gaan Frans Huijerjans Assurantiën richting Kapelke.

*Welke kleur heeft de auto die voor je rijdt? **Blauw***

April 2023 We gaan van het Kapelke naar de Plus. *Wat draagt de jongen die de*

*kruising oversteeft in zijn hand? **Plastic Zak***

Sept 2021 We gaan van de Plus naar het Hagelkruis.

Hoeveel auto's staan fout geparkeerd op de Molenweg tussen de

*Irenestraat en de Margrietstraat? **Geen***

April 2023 We gaan van het Hagelkruis naar het H.Hartbeeld.

*Welke kleur broek draagt de enige voetganger die je tegenkomt op dit stuk? **Wit***

Opdracht 72: Poppetje gezien...

De volgende links verwijzen naar adressen in ons dorp:

1. <https://goo.gl/maps/yGw4ukrvkKJSwM1v5?coh=178573&entry=tt>
2. <https://goo.gl/maps/Ej2sVn2urhmtHNYA9?coh=178573&entry=tt>
3. <https://goo.gl/maps/Mn1rgrTxaappxZm56?coh=178573&entry=tt>
4. <https://goo.gl/maps/dXYiguT6JitPjZJd6?coh=178573&entry=tt>
5. <https://goo.gl/maps/k6AwkKJNNaS1ZZrG8?coh=178573&entry=tt>
6. <https://goo.gl/maps/XAbBa9xDm7PHjQAm6?coh=178573&entry=tt>
7. <https://goo.gl/maps/HLVXsxsXCpXpcEBj7?coh=178573&entry=tt>
8. <https://goo.gl/maps/3JnrPCphirVUKvCRA?coh=178573&entry=tt>



Op elk van die adressen bevindt zich (in huis, maar van buiten te zien) één van de poppetjes die op de foto te zien zijn. Aan jullie de taak uit te vinden welk poppetje of setje waar staat. Noteer het adres en huisnummer.

- A. Morgenweg 23B
- B. Johan Frisolaan 11(A)
- C. Hoofdstraat 2
- D. Gemetstraat 21
- E. Kan. Willemsestraat 2B
- F. Hoofdstraat 7/9
- G. Dr. Meeuwissenstraat 16
- H. St Odiliastraat 7



Opdracht 73: Bergen stroom ☆☆

De familie Stroombergen had tijdens de kerstperiode altijd hun huis versierd met kerstverlichting. Buiten aan de dakgoot hingen 1200 LED lampjes met elk een vermogen van 0,50W. Naast deze LED verlichting hing er ook nog andere verlichting met een vermogen van 1,2 kW.

De buitenverlichting stond elke avond aan vanaf 18:00 tot 02:00 uur gedurende 38 avonden. Per kWh hoefde er toen nog maar 23 eurocent betaald te worden.

Hoeveel moest de familie Stroombergen betalen voor hun kerstverlichting tijdens een van deze kerstperiodes? Rond je antwoord af op hele centen. **125,86 euro (of 12 586 cent)**

Opdracht 74: Als een vlag op een modderschuit ☆☆☆

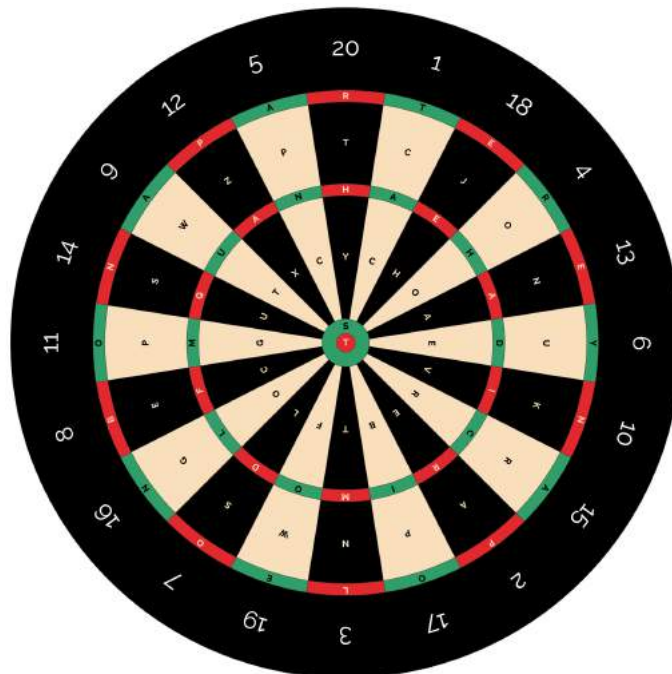
Waar zijn onderstaande vlaggen van? Dit kan zijn van **van** een (fictief) land, staat, provincie of stad. We zoeken de naam van de (fictieve) plaats.



- | | |
|--|--|
| 1. United People's Democratic Front party flag | 11. Gemeenbest van de noordelijke marianen |
| 2. Tescara | 12. House atreides |
| 3. Appartment 4A/ Leeuwarden | 13. Gemeenbest Dominica |
| 4. National Council of Astronautics | 14. Saint Lucia |
| 5. Harlem Globetrotters | 15. San Christos |
| 6. Lombardije | 16. Krigizie |
| 7. The republic of Val Verde | 17. Bhutan |
| 8. Albanie | 18. Arendelle |
| 9. Krakozhia | 19. Sangala |
| 10. Friesland | 20. Democratic republic of Kambana |
| | 21. Gondor |

Opdracht 75: Geen pijl op te trekken ☆☆

Welke locatie is er gegoooid?



1 – 3 – 24 – 54 – 12 – 36 – 3 – 48 – 17 – 2 – 40 – 16 – 6 – 8 – 10 – 1

Café zaal Bergerac

Opdracht 76: Verbindingen ☆☆☆

1. De bassist van de Red Hot Chili Peppers heeft een bijnaam. Aan welk insect dankt hij zijn bijnaam?

Vlo (Flea)

2. Waar bevindt zich het praalgraf van Eva Perron?

Buenos Aires

3. Welk dier is dit: *Capra aegragus hircus*?

Geit

4. Wat moest je vroeger bij Lingo trekken om in één keer door te gaan naar het volgende woord?

De gouden bal

5. Welke schilder heeft dit doek gemaakt?

Gustav Klimt

6. Wat zijn de volgende drie woorden van dit refrein?
“Je komt in ademnood Want de kans is groot Dat ik krijg wat ik wil van jou.....”

Mond op mond



7. Welke vissoort werd geserveerd met fruit uit blik?

Tong

8. Welke actrice (achternaam) speelde Catwoman in *Batman Returns*?

Michelle Pfeiffer

9. Wat is de achternaam van deze Karsten?

Kroon

10. Wat betekent het Hongaarse woord sziget?

Eiland

11. Welk voorwerp is het symbool van het Nationaal comité 4 en 5 mei?

Fakkel

12. Welke kunstenaar (achternaam) zei: “Ik rotzooi maar wat aan”?

Appel



13. Waar gaat dit verhaaltje over? *Het is een luxe product en wordt al 4000 jaar gebruikt. De Egyptenaren verbrandden het voor hun goden. Het is de titel van een roman van Patrick..... die gaat over een jongen die geen geur had. Het wordt gemaakt van bergamot, rozenblaadjes, gedestilleerd water enz.*

Parfum

14. Het is een opvallende man gekenmerkt door elegante eenvoud. Modeontwerper, fotograaf en kunstenaar. Een Duitser die heel veel afviel met een zelf bedacht dieet. Een zonnebril en een witte kat horen bij hem.

Karl Lagerfeld

15. Het is een getal, een priemgetal. In het Kantonnees klinkt het als niet. Het is het rugnummer van Frans Beckenbauer. Het is het aantal zuilen binnen de Islam. De Spice Girls startten met dit aantal leden.

Vijf

16. Wat stelt het logo van Tinder voor?

Vlam

17. Onder welke achternaam is Emmanuel Radnitzky geboren in 1890 in Philadelphia als fotograaf beroemd geworden?

Man Ray

18. Op welke bijzondere plek sloeg Sheppard in 1971 een golfbal?

Op de maan

19. In 1895 werd de eerste film vertoond met de cinematograaf. Wat was de achternaam van **de** uitvinders?

Lumiere

20. Wat was de voornaam van de acteur die speelde in de reclame met de tekst:

"Ik heb nog zo gezegd, geen BOMMETJE!" ?

Peer

21. Het kruisbeeld in Rio de Janeiro werd in 2014 beschadigd. Waardoor brak er een stukje van de vinger af?

Bliksem

22. Welk hemellichaam noemt men ook wel hemeltoorts of dagvorstin?

Zon

23. Welk lied zong Kathie Perry bij de inauguratie van Joe Biden?

Firework

24. Wie schilderde de Aardappeleters?

Van Gogh

25. Supersonisch passagiersvliegtuig:

Concorde

26. Griekse sopraan die een relatie had met Onassis:

Maria Callas

27. Wat voor bouwwerk is de Kat in de Zaanse Schans?

Molen

28. Wat is de bijnaam van Margaret Thatcher?

Iron Lady

29. Wat betekent de L in RTL?

Luxemburg

30. Welke Walt kreeg 22 Oscars?

Disney

31. Geloof, hoop en...?

Liefde

Wat is de verbinding tussen de antwoorden van de volgende vragen?

Vragen	Verbinding	Vragen	Verbinding
1 t/m 4	Lionel Messi	13 t/m 15	Chanel
5 t/m 8	Kus	16 t/m 23	Licht
9 t/m 12	Vrijheidsbeeld	24 t/m 31	Parijs

Wat is de connectie tussen de bovenstaande “verbindingen” ? **Parijs**

Opdracht 77: Op je tellen passen ☆☆☆

Verwijder getallen zodat de som van iedere rij en kolom klopt. Zie onderstaand voorbeeld:

4	3	2	4	4	4		
1	8	5	6	1	8	5	6
5	5	8	13	5	5	8	13
5	5	13	5	5	13		

Zet een duidelijk kruis door de verwijderde nummers en omcirkel de correcte.

5	7	3	8	5	3	2	2	8
3	7	5	7	4	6	5	6	11
4	7	1	11	5	9	3	1	6
9	14	3	11	1	7	4	7	1
				11	9	5	1	

4	9	1	2	5	6	21
6	8	8	1	7	8	16
7	3	8	8	6	9	20
2	4	9	2	5	7	22
5	4	7	7	7	6	18
3	8	6	4	8	5	14
11	32	23	11	12	22	

3	5	5	8	6	3	4	16
5	3	8	4	9	4	3	23
6	8	6	2	1	9	9	10
2	7	8	9	1	5	1	26
2	5	6	2	3	1	1	11
1	8	7	5	3	5	4	13
1	3	5	3	8	3	7	11
6	18	22	17	19	4	24	

2	3	3	9	2	4	5	8	1	26
7	1	5	6	6	6	7	6	9	6
5	7	8	3	7	3	4	5	6	17
9	7	4	9	1	8	2	3	2	14
2	1	3	7	3	6	8	6	1	9
3	9	1	4	6	3	8	5	1	4
2	9	8	6	3	1	6	5	4	31
9	9	9	3	6	4	6	3	4	26
7	8	8	2	6	3	7	4	3	31
5	33	24	14	28	15	21	4	20	

Opdracht 78: E-nummer ☆☆

Noteer alle E-nummers (die als zodanig) vermeld staan op de gefotografeerde producten.

Jus E621 (E627)

Custard E160a E160b(ii)

Olijven E330 E270 E300

Fritessaus E385

Maggi E621 E631

Satesaus E150d E385

Maizena en Blueband geen



Opdracht 79: Netflix en ☆

Van welke op Netflix uitgezonden serie, film of docu vind je hier een korte inhoud?

1. De vrouw van Simon wordt vermoord zodat haar hart verwijderd kan worden. Simon is uit op wraak en stort zich in de harde wereld van orgaanhandel:
Palpito (The Marked Heart)
2. Amerikaans kostuumdrama gebaseerd op nouvelles. Speelt zich af tijdens het Regency-tijdperk (1813) en focust op het societyseizoen in de Britse hoofdstad:
Bridgerton
3. Claire gaat met haar man Frank op een tweede huwelijksreis naar de Schotse Hooglanden. Als Claire naar de plaatselijke stenencirkel gaat, raakt ze een steen aan en maakt een reis door de tijd en komt terecht in 1743:
Outlander
4. Verpleegster Melinda beantwoordt een advertentie om te solliciteren als verpleegkundige in een afgelegen stad. Ze **dankt** dat dit de perfecte plek is om haar pijnlijke herinneringen achter te laten:
Virgin River
5. Serie over een eeneiige tweeling die sinds ze kinderen waren steeds van plaats verwisselen. Dit levert problemen op als een van de twee vermist wordt:
Echo's
6. Een beginnende muzikante gaat een verstandshuwelijk aan met een marinier die binnenkort wordt uitgezonden:
Purple hearts
7. Brood, kaas en saus. Ze worden volgens een recept gemaakt. Zes chef-koks tillen ze naar een heel nieuw niveau:
Chef's Table
8. De opkomst van een basketballer in de jaren '90:
Last dance
9. In deze docuserie wordt teruggekeken op een rampzalig verlopen festival:
Trainwreck Woodstock 99
10. Ontdek van dichtbij hoe groot zijn invloed was op muziek, kunst en cultuur aan de hand van interviews met mensen die hem het beste kenden:
Bowie, the man who changed the world

Opdracht 80: Muzikale wiskunde ☆

Naar welke getallen uit bekende liedjes zijn wij op zoek? Maak het sommetje

1. Bob Marley's Vogels **3**
 + Aantal Luftballons **99**
 - Bryan Adam's Summer **69 = 33**
2. Totaal aantal mijl dat Vanessa Carlton zou lopen **1000**
 / Totaal aantal mijl dat the Proclaimers zou lopen (**500+500**) = **1**
3. Het jaar dat Prince feest alsof het is **1999**
 – Het jaar waar Busted heen ging **3000 = -1001**
4. Jenny's Nummer **8675309** + Som van beide Beatles revoluties (**1+9**) =
8675319
5. Aantal problemen dat Jay-Z heeft **99**
 / Aantal keer dat Tony Orlando wil kloppen **3**
 + Lou Bega's Mambo **5 = 38**

Opdracht 81: Uitgepuzzeld ☆☆

Jan van Haasteren heeft in zijn puzzels vaak herkenbare personages zitten. Een van deze personages is Sinterklaas. Uit welke puzzels komen de volgende Sinterklazen? We zoeken de exacte naam van de puzzel zoals deze op de doos vermeld staat.

Sinterklaas



Titel

Kerstmis



De Wijngaard




De bloemencorso



Popfestival



De volkstuintjes



Dierentuin artis



Tall ship chaos

Opdracht 82: Foutje, bedankt! ☆☆☆

Hoeveel fouten stonden er in het kwisboek. Omcirkel deze met rode pen en noem het getal hieronder.

Opdracht 83: Lepeltje lepeltje

Bak een cake met een lepel erin. Kom deze cake door laten snijden om 21:00 bij de organisatie.



Opdracht 84: Extra opdracht

Grijs

Opdracht 85: Extra opdracht

Kaas

Opdracht 86: Extra opdracht

Abba

Opdracht 87: Extra opdracht

16/17 september